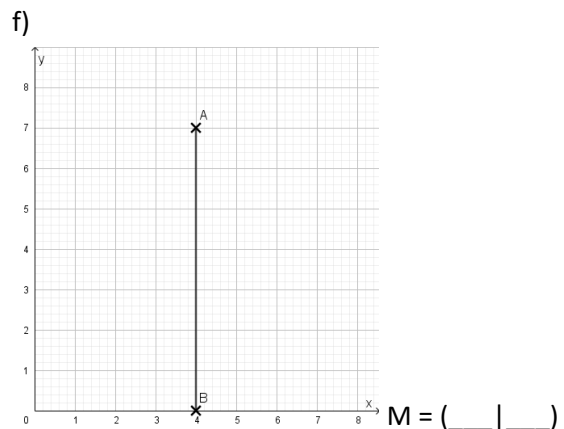
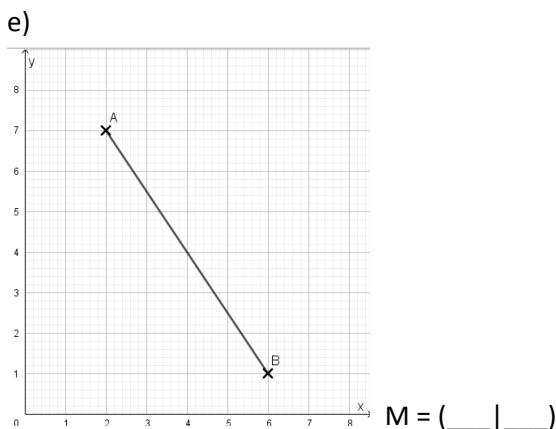
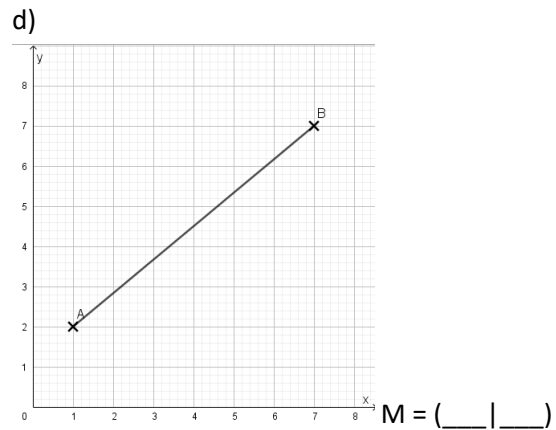
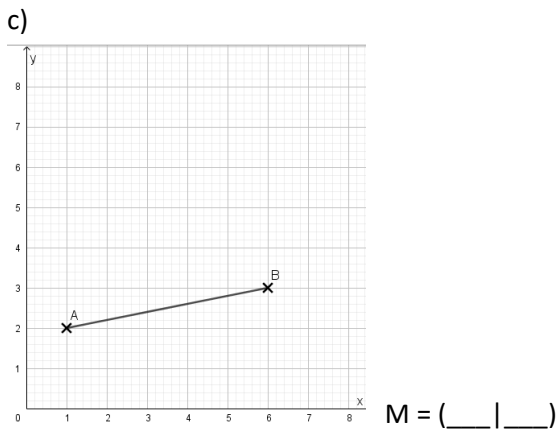
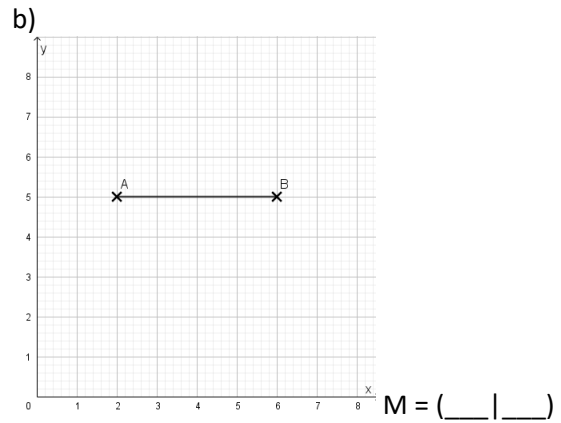
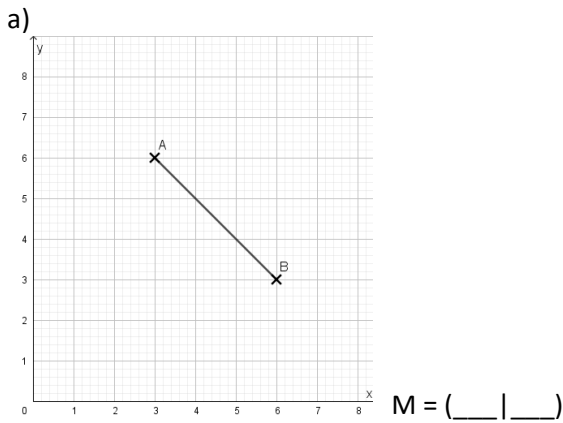


Thema: Die Streckensymmetrale	Handlungskompetenz: H2
Name:	Klasse:



Konstruiere bei jeder Strecke die Streckensymmetrale. Gib die Koordinaten des Mittelpunkts der Strecke an. In den Lösungen findest du die Koordinaten der Mittelpunkte sowie einen Buchstaben. Welches Lösungswort erhältst du?



LÖSUNGSWORT: _____

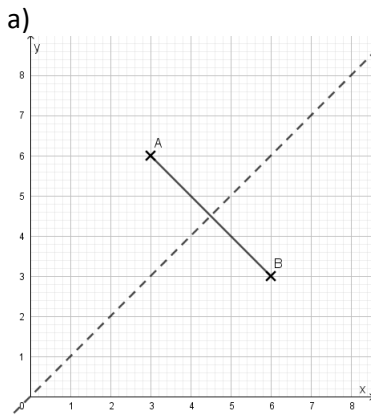
(4 4)	(4 4,5)	(3,5 2,5)	(4,5 4,5)	(4 3,5)	(4 5)
R	E	P	S	!	U



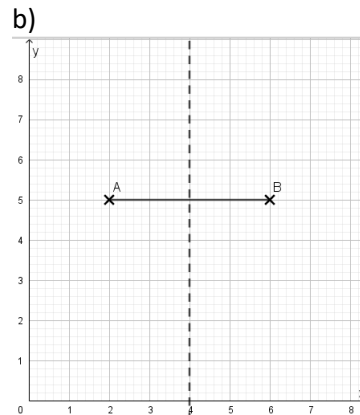
Thema: Die Streckensymmetrale	Handlungskompetenz: H2
Name:	Klasse:



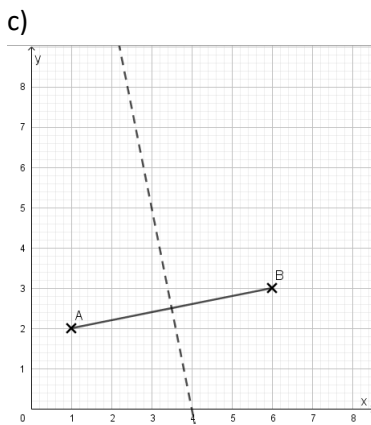
Konstruiere bei jeder Strecke die Streckensymmetrale. Gib die Koordinaten des Mittelpunkts der Strecke an. In den Lösungen findest du die Koordinaten der Mittelpunkte sowie einen Buchstaben. Welches Lösungswort erhältst du?



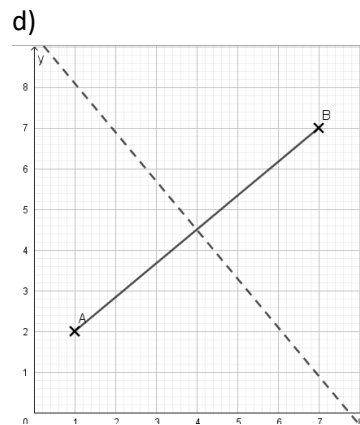
$M = (4,5 | 4,5)$



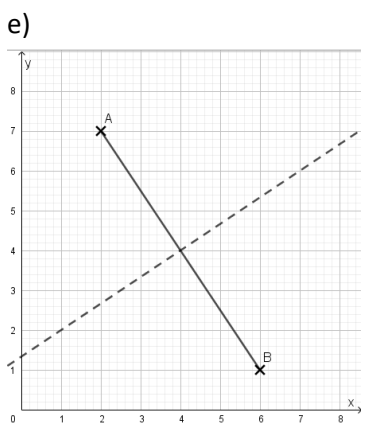
$M = (4 | 5)$



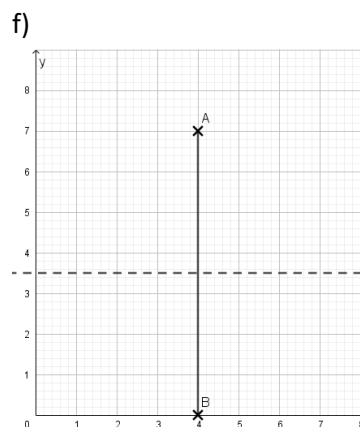
$M = (3,5 | 2,5)$



$M = (4 | 4,5)$



$M = (4 | 4)$



$M = (4 | 3,5)$

LÖSUNGSWORT: SUPER!

