






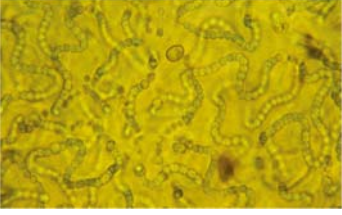






Rätsel der Lebewesen in den Erdzeitaltern

Arbeitsblatt

Beschrifte die abgebildeten Lebewesen und ordne sie dem jeweiligen Erdzeitalter zu, in dem sie gelebt haben oder zum ersten Mal aufgetreten sind.

1 Erdurzeit – 2 Erdaltertum – 3 Erdmittelalter

		
H _____	I _____	G _____
		
D _____	Qu _____	T _____
		
R _____	C _____	Pf _____
		
T _____	U _____	A _____