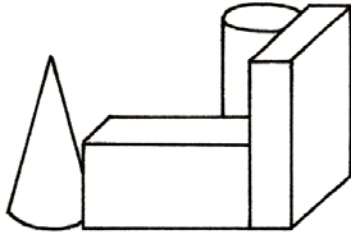
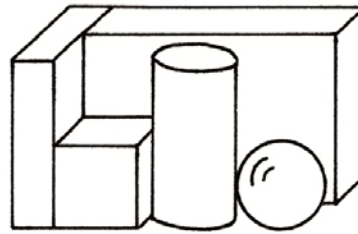


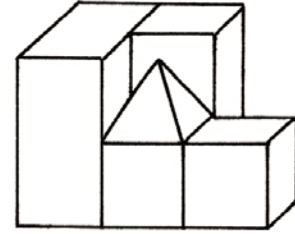
3. Bestimme die Anzahl der Körper.



___ Würfel
 ___ Quader
 ___ Kugel
 ___ Kegel
 ___ Zylinder
 ___ Pyramide




___ Würfel
 ___ Quader
 ___ Kugel
 ___ Kegel
 ___ Zylinder
 ___ Pyramide

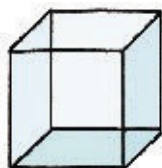


___ Würfel
 ___ Quader
 ___ Kugel
 ___ Kegel
 ___ Zylinder
 ___ Pyramide

4. Ergänze die Kanten und Ecken der Körper.



___ Kanten
 ___ Ecken



___ Kanten
 ___ Ecken



___ Kanten
 ___ Ecken



___ Kanten
 ___ Ecken

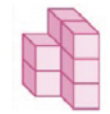
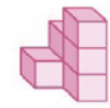
Förderblatt

■ Testen und Fördern

Arbeiten mit Ebene und Raum

Beziehungen zwischen geometrischen Figuren

1. Schreibe die Baupläne.

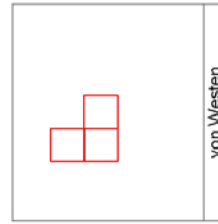
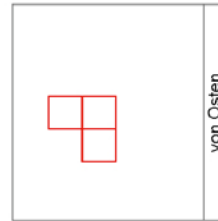
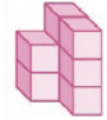


2	1	1
1	1	1

2	2	1
1	1	1

1	1	1
	3	1
2	1	1

2. Ergänze die Ansichten.



3. Bestimme die Anzahl der Körper.



- 0 Würfel
- 2 Quader
- 0 Kugel
- 1 Kegel
- 1 Zylinder
- 0 Pyramide
- 1 Würfel
- 2 Quader
- 1 Kugel
- 0 Kegel
- 1 Zylinder
- 0 Pyramide
- 2 Würfel
- 2 Quader
- 0 Kugel
- 0 Kegel
- 0 Zylinder
- 1 Pyramide

4. Ergänze die Kanten und Ecken der Körper.



- 0 Kanten
- 0 Ecken

- 12 Kanten
- 8 Ecken

- 2 Kanten
- 0 Ecken

- 8 Kanten
- 4 Ecken

Förderblatt

■ Testen und Fördern

Arbeiten mit Ebene und Raum

Körper

3. Bestimme die Anzahl der Körper.



- 0 Würfel
- 2 Quader
- 0 Kugel
- 1 Kegel
- 1 Zylinder
- 0 Pyramide
- 1 Würfel
- 2 Quader
- 1 Kugel
- 0 Kegel
- 1 Zylinder
- 0 Pyramide
- 2 Würfel
- 2 Quader
- 0 Kugel
- 0 Kegel
- 0 Zylinder
- 1 Pyramide

4. Ergänze die Kanten und Ecken der Körper.



- 0 Kanten
- 0 Ecken

- 12 Kanten
- 8 Ecken

- 2 Kanten
- 0 Ecken

- 8 Kanten
- 4 Ecken