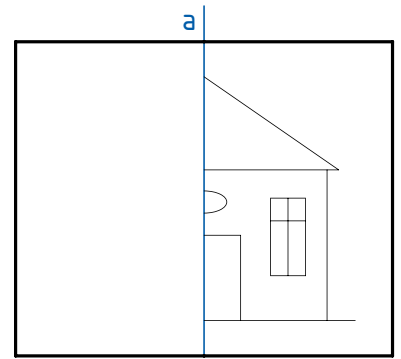


1 Partnerarbeit

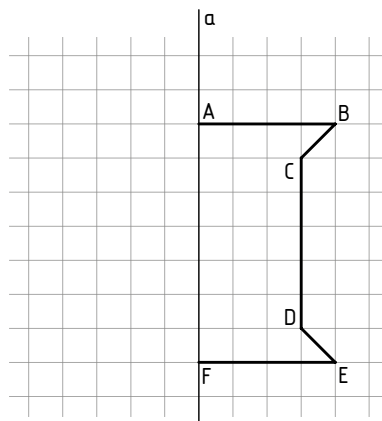
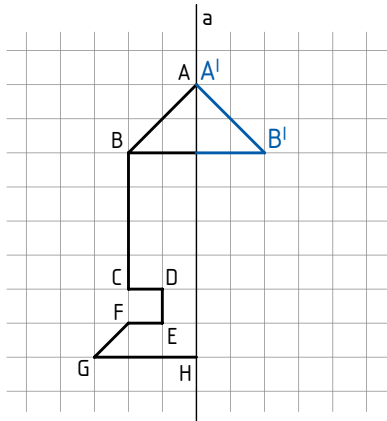
(Material: pro Person ein Blatt Papier, in der Mitte gefaltet)

- 1) Die erste Person zeichnet auf einer Seite des gefalteten Papiers die Hälfte einer Figur (zB Haus, Baum ...).
- 2) Die zweite Person ergänzt auf der zweiten Seite die Figurenhälfte zu einer achsensymmetrischen Figur.
- 3) Zieht die Symmetrieachse a mit Farbe nach.



2 Zeichne die achsensymmetrische Figur fertig und beschrifte die Bildpunkte.

Zeichne die Verbindungsstrecken der symmetrisch liegenden Punkte ein und miss ihre Abstände von der Achse a .



Die Verbindungsstrecke symmetrisch liegender Punkte steht normal zur Symmetrieachse.

3 Zeichne alle Symmetrieachsen ein.

