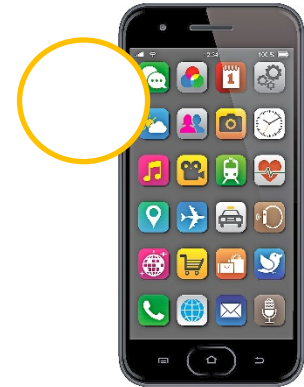




Massenmedien

1 Benenne die Massenmedien.
Stelle fest, ob es sich um analoge (A) oder digitale (D) Medien handelt.



© Artem Gorokhov / Thinkstock; suzannmeer / Fotolia; ET-ARTWORKS / Getty Images – iStockphoto; Rost-9D / Getty Images – iStockphoto; scanrail / Thinkstock; malerapaso / Getty Images - iStockphoto

2 Reihe die Medien aus 1 danach, wie oft du sie in einer Woche verwendest.
Vergleiche dein Ergebnis mit dem deiner Mitschülerinnen und Mitschüler.

1 _____

4 _____

2 _____

5 _____

3 _____

6 _____

