













## Die mendelschen Regeln

Schneide die Blüten der Erbsenpflanzen aus und ordne sie so an, dass du damit die 1. mendelsche Regel und die 2. mendelsche Regel für den dominant-rezessiven Erbgang darstellst.

Lege die einzelnen Bilder dazu auf ein Blatt Papier und wähle die passenden Symbole für die Erbanlagen aus.

					
					
<b>R R</b>	<b>W W</b>	<b>R R</b>	<b>W W</b>	<b>R R</b>	<b>W W</b>
<b>R W</b>	<b>R W</b>	<b>R W</b>	<b>R W</b>	<b>R W</b>	<b>R W</b>
<b>R R</b>	<b>R W</b>	<b>R W</b>	<b>W W</b>	<b>R W</b>	<b>R W</b>
<b>R W</b>	<b>R R</b>	<b>R W</b>	<b>R R</b>	<b>R W</b>	<b>R W</b>