



























 **A1**

Finde mithilfe des Codes die Namen der abgebildeten Tiere.

A	B	C	D	E	F	G	H	I	J	K	L	M
												
N	O	P	Q	R	S	T	U	V	W	X	Y	Z
												











B1
        














B2
    



B3
        



B4
          






B5
         



B6
     



B7
           



B8
       

 **A2**

Ergänze die Listen mit den Tieren aus A1.

Produzenten: (Kieselalgen, Grünalgen, Goldalgen usw.)

Konsumenten 1. Ordnung: (Larven von Meerestieren, Krebstiere usw.)

Konsumenten 2. Ordnung:,

Konsumenten 3. Ordnung:,

Endkonsumenten: Mensch,,