



1 Ordne richtig zu.




Endgeschwindigkeit



Delta



Zusatzgeschwindigkeit



Anfangsgeschwindigkeit

2 Eine Kugel rollt über den Tisch. Sabrina lenkt die Kugel mit einem Stoß ihres Stifts weiter.

- Beschrifte den Geschwindigkeitspfeil, der die Anfangsgeschwindigkeit zeigt. Schreibe die passende Abkürzung aus Aufgabe 1 neben den Pfeil.
- Beschrifte den Geschwindigkeitspfeil, der die Zusatzgeschwindigkeit zeigt. Schreibe die passende Abkürzung aus Aufgabe 1 neben den Pfeil.
- Zeichne den Geschwindigkeitspfeil der Endgeschwindigkeit ein. Beschrifte den Geschwindigkeitspfeil danach mit der passenden Abkürzung aus Aufgabe 1.

