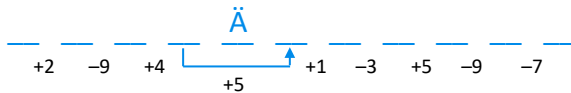


1. Beantworte die Fragen. Du findest die richtigen Lösungswörter, indem du die Reihenfolge der Buchstaben im Alphabet abzählst.

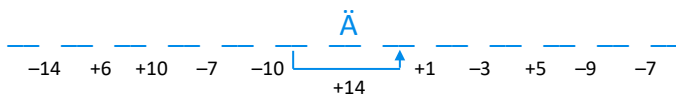
W1

a) Woraus besteht ein Transformator?

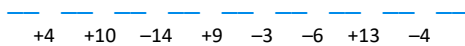
Beginne mit dem 16. Buchstaben.



Beginne mit dem 19. Buchstaben.

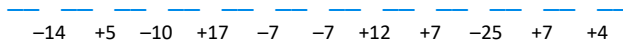


Beginne mit dem 5. Buchstaben.



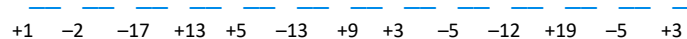
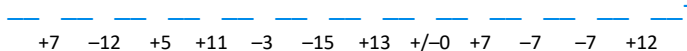
b) Wofür steht die Abkürzung „N“?

Beginne mit dem 23. Buchstaben.



c) Welche Art von Transformator kommt in einer Leuchtröhre zum Einsatz?

Beginne mit dem 8. Buchstaben.



2. Ordne die Spannungswerte richtig zu.

W1, W3

