












## Arbeitsplan

Für diesen Arbeitsplan hast du \_\_\_\_\_ Unterrichtsstunden Zeit.

 = Pflichtaufgaben

 = freiwillige Zusatzaufgaben

Station	Aufgaben	✓	Lehrerin Lehrer
1. 	<p><b>Vergleich Wien und New York</b></p> <p>⇒ Löse die Aufgaben auf dem Arbeitsblatt (1): „Vergleich Wien und New York“</p>		
2.  	<p><b>Film New York</b></p> <p>⇒ Schau den Film „Der Aufbau von europäischen und nordamerikanischen Städten im Vergleich“ an.</p> <p>Gehe im Internet auf <a href="http://www.oebv.at">www.oebv.at</a> Gib den Link (Online-Code) <b>5hh4n5</b> in das Feld „Begriff/Online-Link/Code“ ein.</p> <p>⇒ Löse die Aufgabe 3 im Schulbuch auf Seite 42.</p>		
3. 	<p><b>Auf der Karte</b></p> <p>⇒ Arbeite mit den Karten im Schulbuch auf Seite 44 und 45.</p> <p>⇒ Löse die Aufgaben auf dem Arbeitsblatt (2): „Auf der Karte“</p>		
4. 	<p><b>New York – eine Stadt mit vielen Gesichtern</b></p> <p>⇒ Löse die Aufgabe auf dem Arbeitsblatt (3): „Eine Stadt mit vielen Gesichtern“</p>		
5. 	<p><b>New York – arm und reich</b></p> <p>⇒ Geh im Internet auf <a href="http://www.oebv.at">www.oebv.at</a> Gib den Link (Online-Code) <b>54k99b</b> in das Feld „Begriff/Online-Link/Code“ ein.</p> <p>Sieh dir die Bildergalerie „New York – Menschen“ an.</p> <p>⇒ Löse die Aufgabe auf dem Arbeitsblatt (4): „New York - Menschen“</p>		
6. 	<p><b>New York in Bildern</b></p> <p>⇒ Geh im Internet auf <a href="http://www.oebv.at">www.oebv.at</a> Gib den Link (Online-Code) <b>5542gp</b> in das Feld „Begriff/Online-Link/Code“ ein.</p> <p>Sieh dir zuerst die Bildergalerie „New York – Big Apple“ an.</p> <p>⇒ Bildet kleine Gruppen (3-4 Personen). Gestaltet gemeinsam eine (digitale) Präsentation mit einem Programm für eine New-York-Reise. Stellt fest, was ein Hotel für zwei Personen mit Frühstück für 5 Tage und der Flug kosten.</p>		

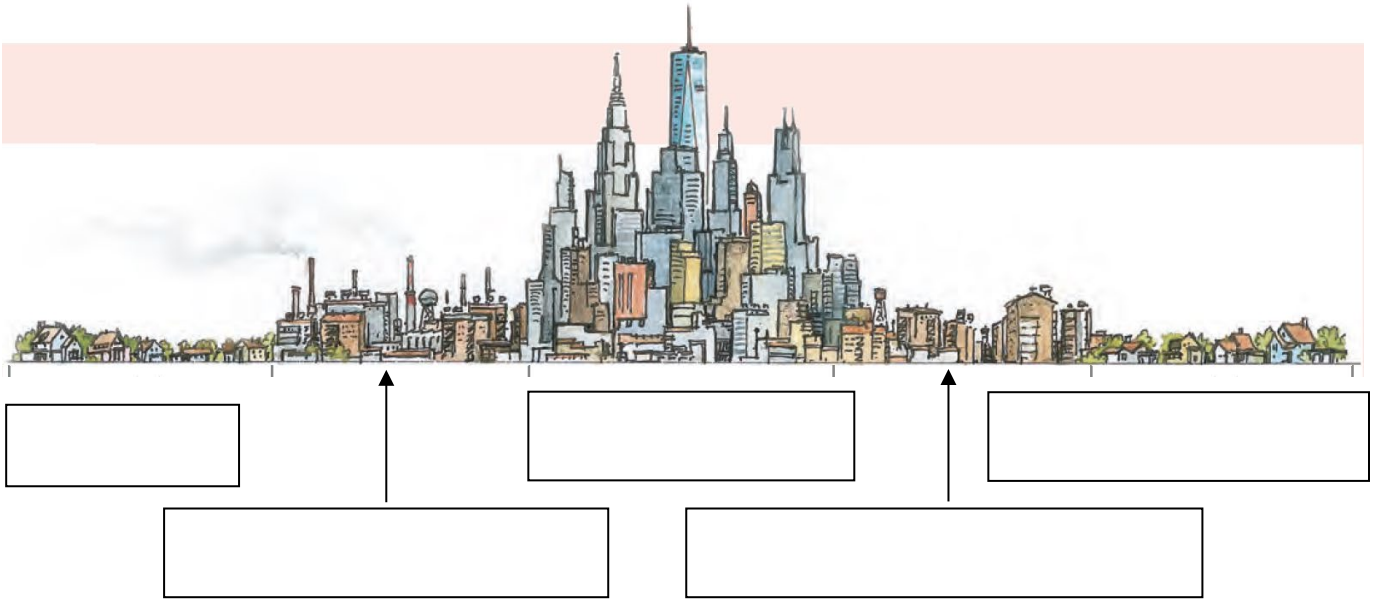
© icon72 - thinkstockphotos.com; Thomas Przygodda, Langenhagen; © Freytag-Berndt und Artaria KG, Wien; © gordondix - iStockphoto. com ; © rabbit75\_fot - Fotolia.com



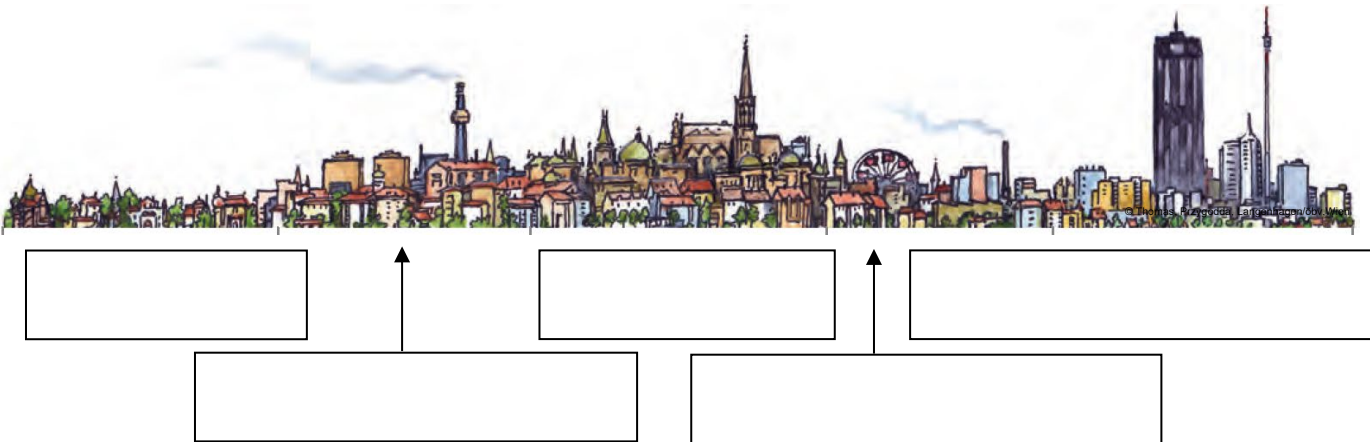
## Station 1 Arbeitsblatt (1): Vergleich Wien und New York

1. Hier siehst du den Aufbau einer nordamerikanischen und einer europäischen Stadt. Beschrifte die einzelnen Stadtteile mit den vorgegebenen Bezeichnungen.

Villen – Suburbs – ältere und schlechtere Wohngegenden (Ghettos) – Altstadt (City) – ältere Stadtteile mit Wohnungen und Industrie – ältere Stadtteile mit Wohnungen und Geschäften – Downtown – Suburbs – neue Stadtteile mit Büros, Gewerbeparks und Wohnhausanlagen – ältere Stadtteile mit Wohnungen und Geschäften – europäische – nordamerikanische



Das ist eine \_\_\_\_\_ Stadt.



Das ist eine \_\_\_\_\_ Stadt.

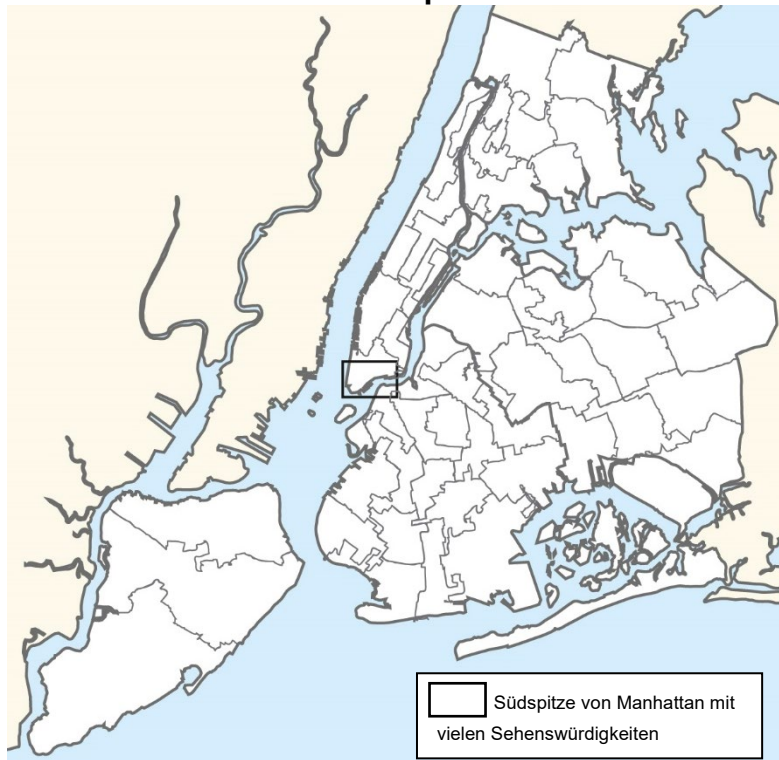


### Station 3 Arbeitsblatt (2): Auf der Karte

-  1. Suche in deinem Atlas eine Karte mit den USA und ihren Städten. Zeichne die Lage von New York auf der Karte unten mit einem großen roten Kreis ein.



-  2. Orientiere dich auf den Karten im Schulbuch auf Seite 44 und 45. Male die 5 Bezirke mit denselben Farben an, wie du sie im Schulbuch findest und beschrifte sie. Kennzeichne die Südspitze Manhattan mit einem roten X.



© Freytag-Berndt und Artaria KG, Wien;



## Station 4 Arbeitsblatt (3): Eine Stadt mit vielen Gesichtern

 1. Lies A und B im Schulbuch auf Seite 44 und bearbeite die Aufgaben.

a) Schreibe vier Herkunftsregionen von Einwanderern und Einwanderinnen in die USA auf.

.....

.....

.....

b) Erkläre die Probleme des Autoverkehrs und des öffentlichen Verkehrs in New York.

.....

.....

.....

c) Nenne die Probleme, die ärmere Stadtteile wie Harlem hatten.

.....

.....

.....

d) Nenne die Maßnahmen, die gesetzt wurden, um die Lebenssituation in Harlem zu verbessern und beurteile sie.

.....

.....

.....

e) Entscheide dich für den Stadtteil New Yorks, in dem du gerne leben würdest. Nenne Vorteile und Nachteile deiner Wahl.

.....

.....

.....



## Station 5 Arbeitsblatt (4): New York – Menschen

-  1. Schau die Bildergalerie „New York – Menschen“ an. Gehe dazu im Internet auf [www.oebv.at](http://www.oebv.at). Gib den Link (Online-Code) x6xs2u in das Feld „Begriff/Online-Link/Code“ ein.

a) Finde heraus, wie der Stadtteil Manhattan zu seinem Namen kam.


.....  
.....

b) Ermittle die Zeit (Jahrhunderte), in der Sklavinnen und Sklaven aus Afrika nach Amerika verschleppt wurden.

.....

c) Nenne die Jahrhunderte, in denen besonders viele Menschen aus Europa nach Amerika auswanderten. Ermittle Gründe, aus denen sie Europa verlassen haben.

.....  
.....  
.....

-  3. Bearbeite das Foto nach der Methode „Bilder interpretieren“ auf Seite 35 in deinem Schulbuch. Nimm Stellung zur Tatsache, dass auch in Städten der reicheren Staaten viele Menschen in bitterer Armut leben.



© Christian Fridrich, Großweikersdorf

.....  
.....  
.....  
.....  
.....  
.....  
.....  
.....  
.....