




- 1 Überlege, mit welcher Strategie du die Aufgabe lösen kannst, und löse sie mithilfe des Rechenstrichs.


$238 + 324 = \dots\dots$

Strategie:




$412 + 279 = \dots\dots$

Strategie:



$1\ 194 + 352 =$


Strategie:



- 2 Überlege, mit welcher Strategie du die Aufgabe lösen kannst, und löse sie mithilfe des Rechenstrichs.


$1\ 298 - 576 = \dots\dots$

Strategie:



$1\ 489 - 652 = \dots\dots$

Strategie:



$2\ 014 - 438 = \dots\dots$

Strategie:

