

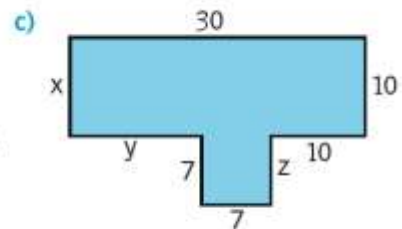
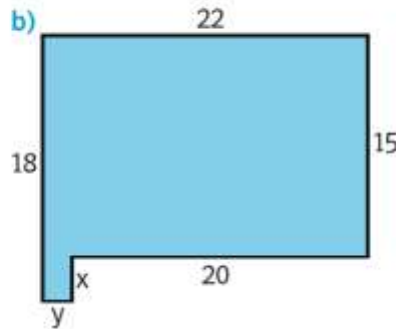
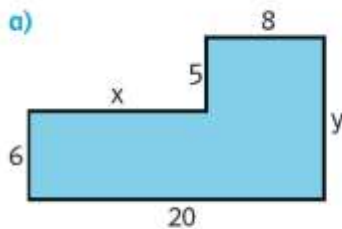
Arbeiten mit Figuren: Erklärung per Chatnachricht (Ergänzung zu Aufgabe 1133)

Name:

Klasse:

Ihr habt Aufgabe 1126 aus dem Schulbuch als Hausübung bekommen.

Berechne die unbekannt Seitenlängen, den Flächeninhalt und den Umfang der Figur. (Maße in m)



Eine Mitschülerin schickt dir am Nachmittag folgende Nachricht:

Hey!
Checkst du die Mathe-HÜ? Hab keinen Plan, was ich da machen soll ...
Kannst du mir das bitte erklären?

Verfasse eine Antwort auf die Nachricht, in der du erklärst, was bei der Aufgabe zu tun ist. Setze den Dialog danach weiter fort, bis deine Mitschülerin die Aufgabe verstanden hat.