
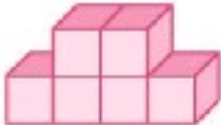

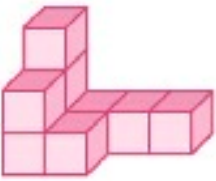
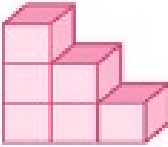
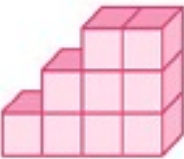


1. Bestimme die Würfelanzahl.



	<hr/>
	<hr/>
	<hr/>
	<hr/>
	<hr/>

2. Schreibe die Baupläne zu den Würfelgebäuden.




	<table border="1" style="margin-left: auto; margin-right: auto;"> <tr> <td style="text-align: center;">1</td> <td style="text-align: center;">2</td> <td style="text-align: center;">2</td> <td style="text-align: center;">1</td> </tr> </table>	1	2	2	1
1	2	2	1		


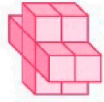
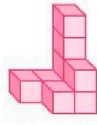


Förderblatt

■ Testen und Fördern

Arbeiten mit Ebene und Raum Beziehungen zwischen geometrischen Figuren



2. Schreibe die Baupläne zu den Würfelgebäuden.

	<table border="1" style="border-collapse: collapse; text-align: left; width: 100px;"><tr><td>1</td><td>2</td><td>2</td><td>1</td></tr></table>	1	2	2	1				
1	2	2	1						
	<table border="1" style="border-collapse: collapse; text-align: left; width: 100px;"><tr><td>2</td><td>2</td><td>2</td></tr><tr><td>2</td><td>2</td><td>2</td></tr></table>	2	2	2	2	2	2		
2	2	2							
2	2	2							
	<table border="1" style="border-collapse: collapse; text-align: left; width: 100px;"><tr><td>3</td><td>1</td><td>1</td><td>1</td></tr><tr><td>2</td><td>1</td><td></td><td></td></tr></table>	3	1	1	1	2	1		
3	1	1	1						
2	1								
	<table border="1" style="border-collapse: collapse; text-align: left; width: 100px;"><tr><td>3</td><td>2</td><td>1</td></tr></table>	3	2	1					
3	2	1							
	<table border="1" style="border-collapse: collapse; text-align: left; width: 100px;"><tr><td>1</td><td>2</td><td>3</td><td>3</td></tr></table>	1	2	3	3				
1	2	3	3						


© Österreichischer Bundesverlag Schulbuch GmbH & Co. KG, Wien 2016. Alle Rechte vorbehalten.
Testen und Fördern: MiniMax Mathematik 3

2


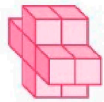
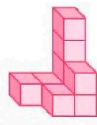


Förderblatt

■ Testen und Fördern

Arbeiten mit Ebene und Raum Beziehungen zwischen geometrischen Figuren



1. Bestimme die Würfelanzahl.

	<hr style="width: 100px; border: 0; border-top: 1px solid black; margin: 0;"/> 6
	<hr style="width: 100px; border: 0; border-top: 1px solid black; margin: 0;"/> 12
	<hr style="width: 100px; border: 0; border-top: 1px solid black; margin: 0;"/> 9
	<hr style="width: 100px; border: 0; border-top: 1px solid black; margin: 0;"/> 6
	<hr style="width: 100px; border: 0; border-top: 1px solid black; margin: 0;"/> 9

© Österreichischer Bundesverlag Schulbuch GmbH & Co. KG, Wien 2016. Alle Rechte vorbehalten.
Testen und Fördern: MiniMax Mathematik 3

1