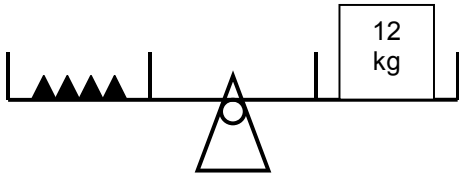


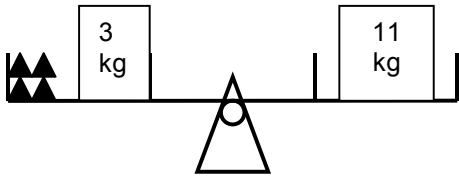
1 Die Wippe ist im Gleichgewicht.



Wie schwer ist ein ▲?

.....

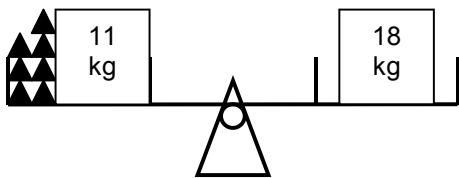
.....



Wie schwer ist ein ▲?

.....

.....

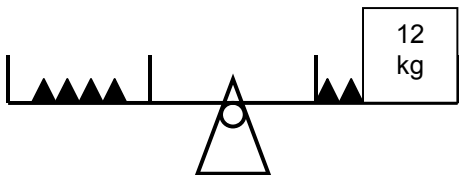


Wie schwer ist ein ▲?

.....

.....

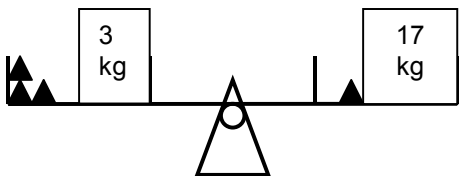
2 Die Wippe ist im Gleichgewicht.



Wie schwer ist ein ▲?

.....

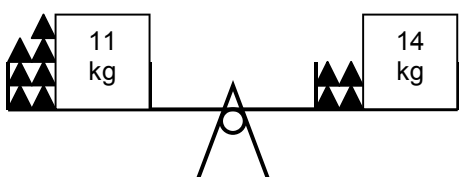
.....



Wie schwer ist ein ▲?

.....

.....



Wie schwer ist ein ▲?

.....

.....

