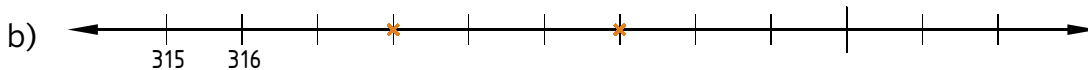
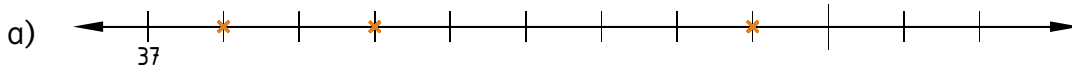
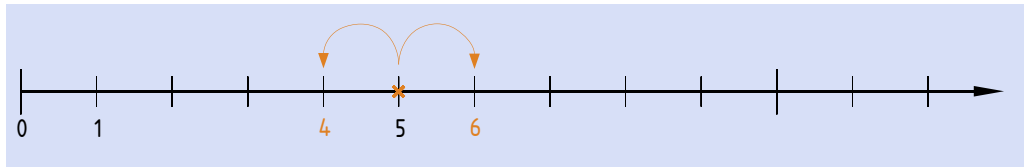


1 Markiere durch Pfeile den Vorgänger und den Nachfolger.



2 Gib den Vorgänger und Nachfolger folgender Zahl an.

- a) ..... 123 .....      b) ..... 2 564 .....      c) ..... 532 .....  
 d) ..... 1 000 .....      e) ..... 99 .....      f) ..... 1 899 .....

3 Trage in die Stellenwerttafel ein. Schreibe die Zahlen an.

	H	Z	E	Zahl
b) 5 H 4 E	5	0	4	504
c) 1 H 8 Z				
d) 6 H 5 E				

	H	Z	E	Zahl
a) 2 H 7 Z				
c) 2 H 7 E				
e) 1 H 8 E				

4 Lies die gegebene Zahl. Gib sie in dekadischen Einheiten an.

Zahl	M	HT	ZT	T	H	Z	E	
3 921 300	3	9	2	1	3	0	0	3 M 9 HT 2 ZT 1 T 3 H
a) 9 002 232								
b) 4 321 905								
c) 1 134 230								
d) 854 003								

