











1 Verdopple. Zeichne und rechne.

		
___ + ___ = ___	___ + ___ = ___	___ + ___ = ___
		
___ + ___ = ___	___ + ___ = ___	___ + ___ = ___

2 Halbiere. Verteile gerecht.

	
	
___ = ___ + ___	___ = ___ + ___

Förderblatt

Arbeiten mit Operationen

Verdoppeln und Halbieren

■ Testen und Fördern

1 Verdopple. Zeichne und rechne.

$4 + 4 = 8$	$6 + 6 = 12$	$7 + 7 = 14$
$10 + 10 = 20$	$3 + 3 = 6$	$9 + 9 = 18$

2 Halbiere. Verteile gerecht.

$14 = 7 + 7$	$18 = 9 + 9$

© Österreichischer Bundesverlag Schulbuch GmbH & Co. KG, Wien 2014. Alle Rechte vorbehalten.
Testen und Fördern: MiniMax 1

41