

# Angebot und Nachfrage

1

Erkläre mithilfe der Abbildungen, ob der Verkaufspreis hoch oder niedrig ist.


Angebot

Nachfrage



Möglichkeit 1



Möglichkeit 2



Möglichkeit 3



Möglichkeit 4

