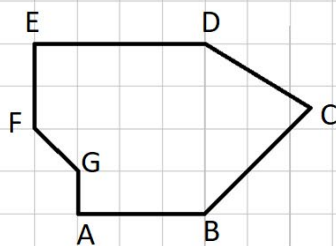
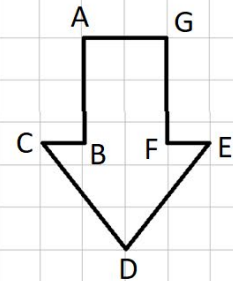
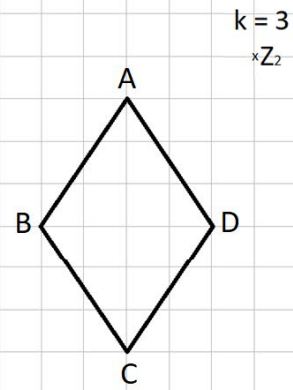
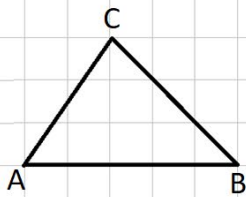


Thema: Zentrische Streckung II	Handlungskompetenz: DI
Name:	Klasse:

1. Vergrößere die Figur vom Streckzentrum Z aus um den gegebenen Streckungsfaktor k.

Z_1^*
k = 2



Z_4^*
k = 0,5

Thema: Zentrische Streckung II - Lösung	Handlungskompetenz: DI
Name:	Klasse:

1. Vergrößere die Figur vom Streckzentrum Z aus um den gegebenen Streckungsfaktor k.

