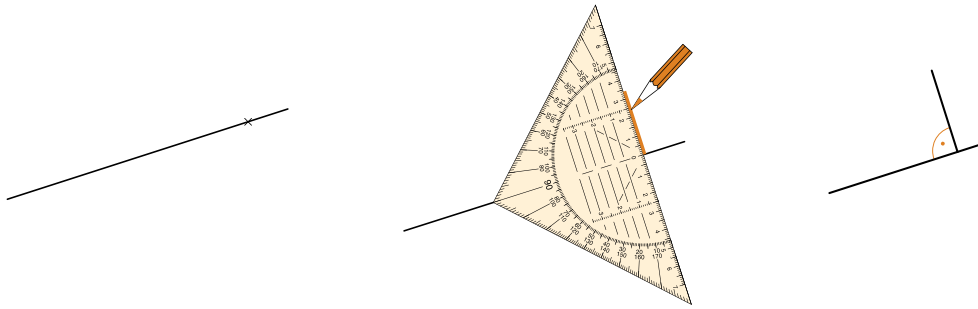
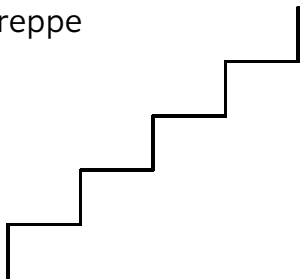


- 1 So zeichnest du einen rechten Winkel. Zeichne mehrere rechte Winkel.

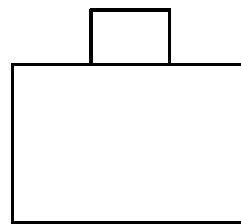


- 2 Zeichne mit dem Geodreieck und kennzeichne die rechten Winkel.

a) Treppe



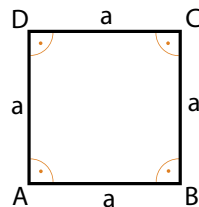
b) Koffer



- 3 Konstruiere das Quadrat.

Ein Quadrat ist ein Rechteck mit vier gleich langen Seiten.

$a = 20 \text{ mm}$



a)  $a = 5 \text{ cm}$

b)  $a = 44 \text{ mm}$

c)  $a = 2 \text{ cm } 5 \text{ mm}$

d)  $a = 5 \text{ cm } 4 \text{ mm}$

- 4 Färbe Rechtecke blau und Quadrate rot ein.

