

1 Schreibe stellenwertrichtig untereinander und addiere.




- a) $4,59 + 2,9$ b) $5,91 + 12,43$ c) $12,85 + 38,92$ d) $69,42 + 3,3$

2 Berechne


- a) $83 + 74,93$ b) $293,92 + 4$ c) $83,22 - 24$ d) $83,7 - 56,12$

3 Michi, Fatos und Sandra gehen einkaufen.

CD - 13,70 € Kopfhörer - 12,30 € PC-Spiel - 29,90 €



Memorystick - 34,20 € Maus - 6,50 €



- a) Michi hat 40 €. Er möchte eine neue CD und ein PC-Spiel. Kann er sich das leisten?
 b) Fatos kauft einen Memorystick. Er bezahlt mit einem 50-€-Schein.
 Berechne das Retourgeld.
 c) Sandra kauft neue Kopfhörer und eine Maus für ihren PC. Sie bezahlt mit einem 20-€-Schein. Wie viel Euro und Cent bekommt sie zurück?