

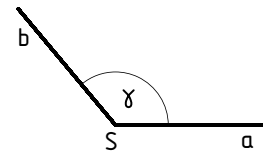
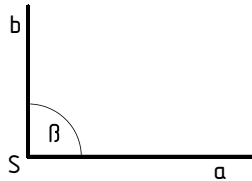
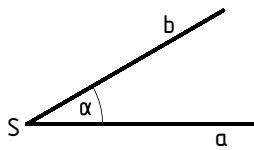
1 Winkel werden mit griechischen Kleinbuchstaben bezeichnet.

Schreibe jeden Buchstaben 5-mal.

Alpha: α Beta: β

Gamma: γ Delta: δ

2 Zu welcher Winkelart gehören die folgenden Winkel?



.....

.....

.....

3 Miss den Winkel und gib die Winkelart an.

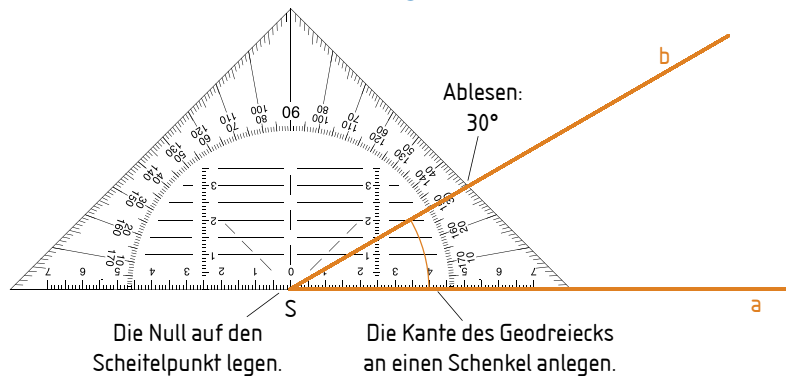
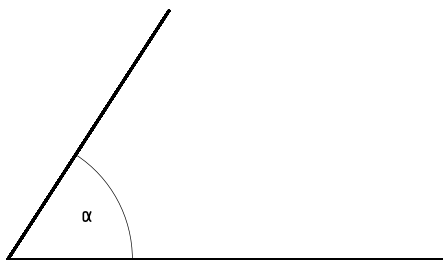
Die Kante des Geodreiecks kann 0° oder 180° sein.

Beginne beim Ablesen immer bei 0° .

Um das Ablesen zu erleichtern, kannst du die Schenkel verlängern.

a) $\alpha =$

..... Winkel



c) $\beta =$

.....

b) $\gamma =$ Winkel

..... Winkel

