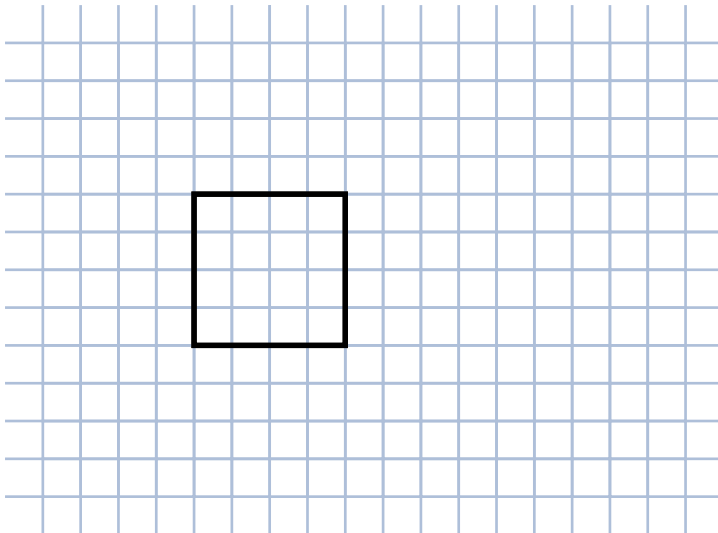


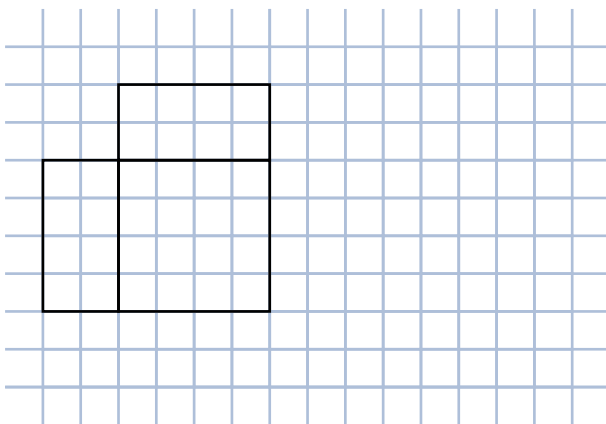
Thema: Netze von Quader und Würfel	Handlungskompetenz: O - DI
Name:	Klasse:



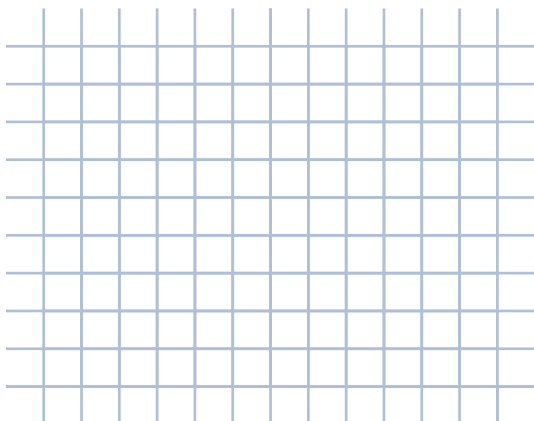
1. Ergänze das Netz des Würfels.



2. Ergänze das Netz des Quaders.



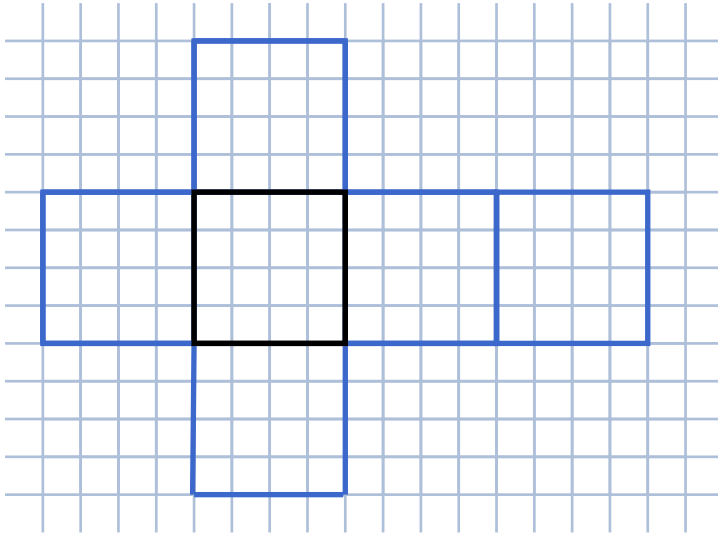
3. Zeichne das Netz des Würfels mit der Kantenlänge $a = 1,5$ cm.



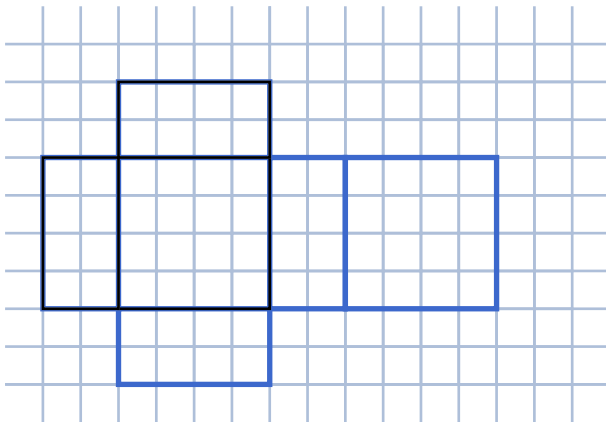
Thema: Netze von Quader und Würfel - Lösungen	Handlungskompetenz: O - DI
Name:	Klasse:



1. Ergänze das Netz des Würfels.



2. Ergänze das Netz des Quaders.



3. Zeichne das Netz des Würfels mit der Kantenlänge $a = 1,5 \text{ cm}$.

