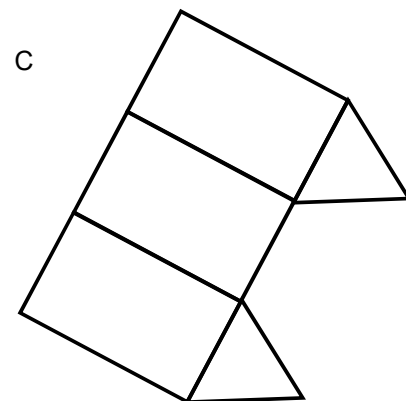
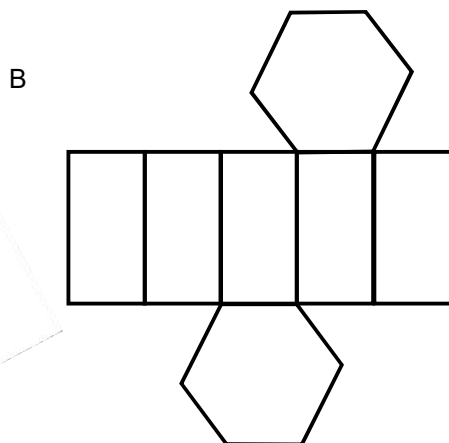
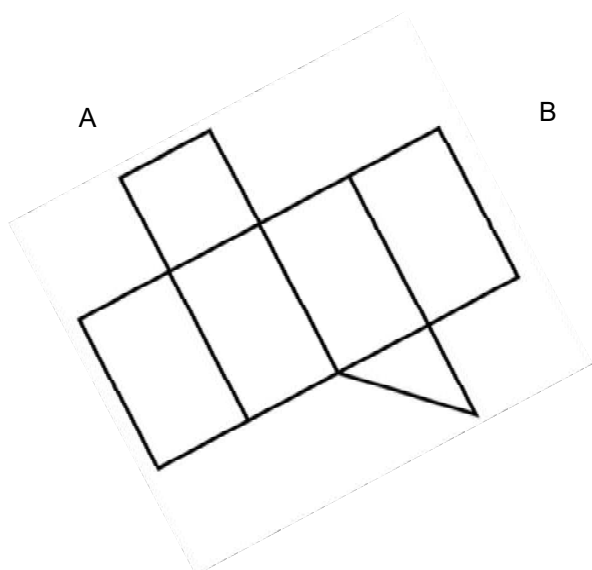


1. Bei jedem der folgenden Prismennetze hat sich genau ein Fehler eingeschlichen. Suche die Fehler und stelle die Netze richtig.



2. Im Bild siehst du das Foto einer Sitzbank in Form eines Quaders. In jedem Eckpunkt gibt es in Wirklichkeit rechte Winkel ( $90^\circ$ ). Bei dem Foto sieht dies gar nicht so aus. Messe im Bild nach, wie groß die markierten  $90^\circ$ -Winkel im Bild ungefähr erscheinen, und trage die Größen ein.

