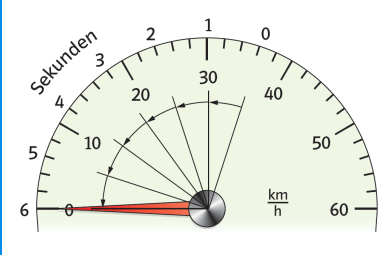
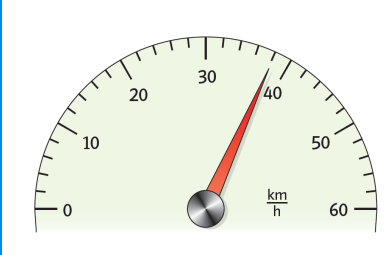
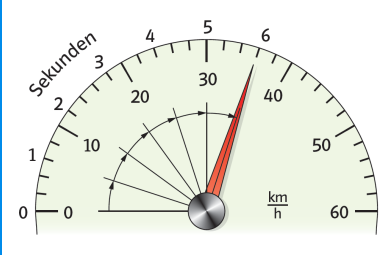
 1. Ordne richtig zu.


W1

<p>beschleunigte Bewegung</p>		<p>v bleibt bei geradliniger Bewegung gleich.</p>
<p>beschleunigte Bewegung (Verzögerung)</p>		<p>v wird größer.</p>
<p>gleichförmige Bewegung</p>		<p>v wird kleiner.</p>

 2. Die Wörter sind durcheinander geraten. Stelle sie richtig.

W1

NAH – IGK – EIT – CHW – IND – GES – SZU – ME _____
 ICH – MIG – GLE – FÖR _____
 RIC – NG – NGS – BEW – HTU – EGU _____

-  3. Die _____ gibt den Weg an, der in einer Zeiteinheit zurückgelegt wird. Damit verbunden ist auch die Bewegungsrichtung. Wir können die Geschwindigkeit als _____ zeichnen, der beim Körper beginnt. Die Pfeillänge gibt den _____ der Geschwindigkeit an und die _____ die Bewegungsrichtung des Körpers.
- Die _____ ist die Geschwindigkeitszunahme oder -abnahme pro Zeiteinheit und eine Richtungsänderung bei gleichbleibendem Geschwindigkeitsbetrag.