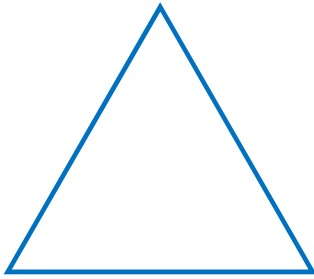
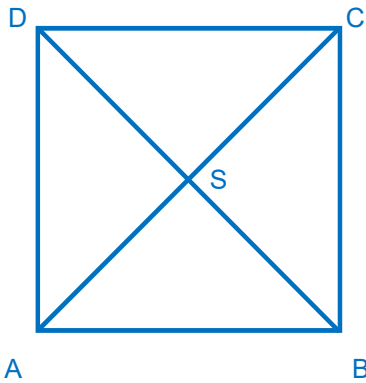


Du siehst jeweils eine Pyramide von vorne („Aufriss“) und von oben („Grundriss“).
 Gib bei beiden Körpern die Längen der Höhe h und der Seiten der Grundfläche an.
 Zeichne in der Ansicht von vorne die Höhen der Pyramiden ein.
 Zeichne dann einen Diagonalschnitt der Pyramide (Dreieck ACS).

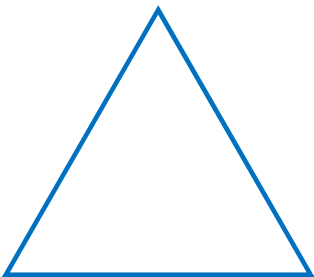
A) Quadratische Pyramide

Höhe $h =$ Quadratseite $a =$ 

Platz für den Diagonalschnitt

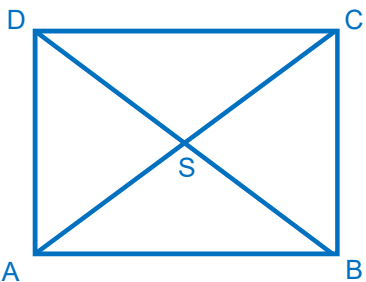
A _____

B) Rechteckige Pyramide

Höhe $h =$

Seite AB =

Seite BC =



Platz für den Diagonalschnitt

A _____

