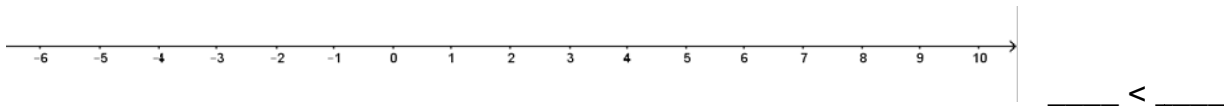


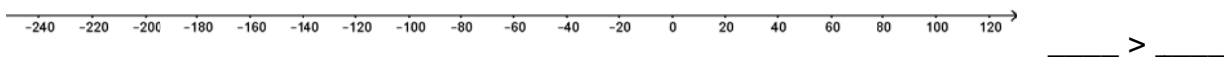


1. Markiere die in den Aussagen angegebenen ganzen Zahlen am Zahlenstrahl und ergänze den Größenvergleich richtig!

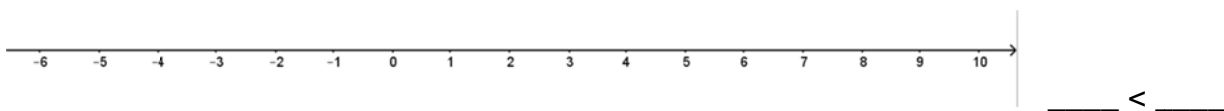
1) Am Montag hatte es  $5^{\circ}\text{C}$ , am Mittwoch nur noch  $-3^{\circ}\text{C}$ .



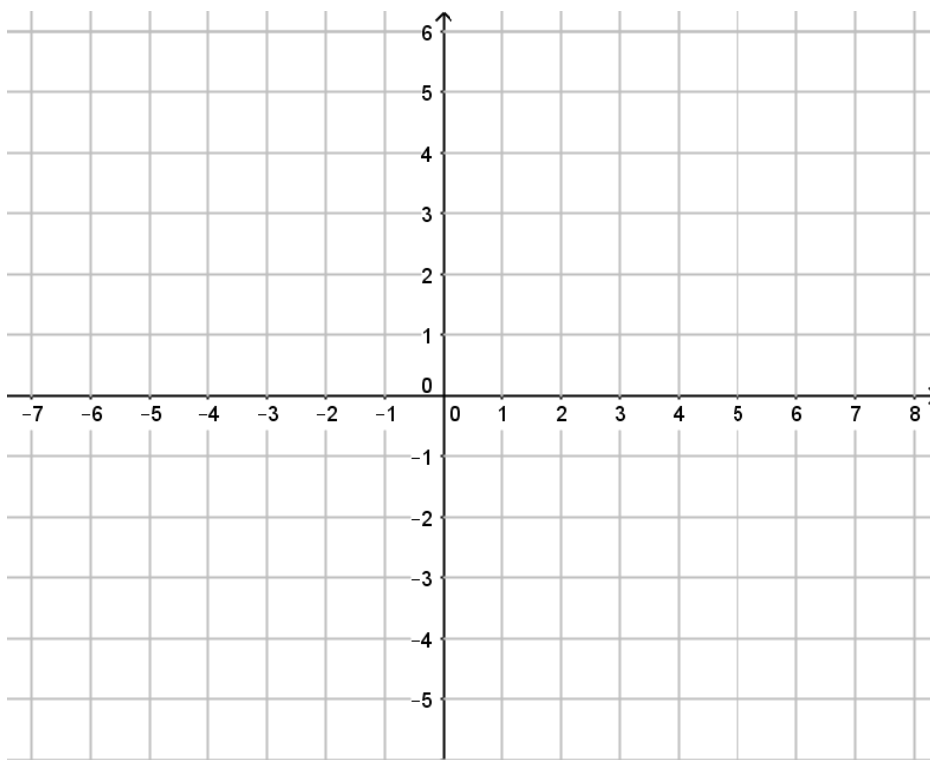
2) Herr Wiesner hat auf seinem Konto  $120\text{ €}$  und gibt für einen Tisch so viel Geld aus, dass sein Kontostand auf  $-220\text{ €}$  fällt.



3) Frau Grubers Büro befindet sich im 6. Stock eines Bürogebäudes, der Parkplatz für ihr Auto befindet sich im 2. Untergeschoß.



2. Zeichne die angegebenen Punkte in das Koordinatensystem ein. Gib dann selber für jeden der vier Quadranten einen beliebigen Punkt mit ganzzahligen Koordinaten an, ohne den Punkt jedoch einzuzeichnen. A(0|-4), B(3|0), C(-7|2), D(-4|-2), E(-3|4)



Punkt im 1.Quadranten:  
\_\_\_\_\_

Punkt im 2.Quadranten:  
\_\_\_\_\_

Punkt im 3.Quadranten:  
\_\_\_\_\_

Punkt im 4.Quadranten:  
\_\_\_\_\_

