

A1

Arten sind an ihre Umgebung angepasst: Ordne die Tiere ihrem Lebensraum (LR) zu. Beschreibe die jeweiligen Merkmale, wie diese Tiere an ihre Umwelt angepasst sind.




Foto: Desiree Müller/Fotolia.com

LR:



Foto: dr322/Thinkstock

LR:




Foto: Nastco/Thinkstock

LR:




Foto: Siegmund/Fotolia.com

Tier: Dromedar
Merkmale:




Foto: spyder24/Thinkstock

Tier: Tiefsee-Anglerfisch
Merkmale:



Foto: impr2003/Thinkstock

Tier: Schneehase
Merkmale:

A2

Informiere dich im Internet oder in einem Naturführer, wie Pflanzen des Hochgebirges an ihre Lebensbedingungen angepasst sind. Zähle vier Merkmale auf. Beschreibe anhand eines konkreten Beispiels, das du entweder gezeichnet oder ausgedruckt hast.

.....

.....