

1. Rechne aus und kontrolliere mit Hilfe der Umkehraufgabe.

$92 - 40 = \underline{52}$

$\underline{52} + \underline{40} = \underline{\quad}$

$152 - 81 = \underline{\quad}$

$\underline{\quad} + \underline{\quad} = \underline{\quad}$

$421 - 112 = \underline{\quad}$


$\underline{\quad} + \underline{\quad} = \underline{\quad}$

$668 - 398 = \underline{\quad}$

$\underline{\quad} + \underline{\quad} = \underline{\quad}$

$945 - 638 = \underline{\quad}$

$\underline{\quad} + \underline{\quad} = \underline{\quad}$



2. Wähle deinen Rechenweg selbst.

a) $155 + 75 = \underline{\quad}$

b) $360 - 132 = \underline{\quad}$

c) $453 + 123 = \underline{\quad}$

d) $502 - 190 = \underline{\quad}$

3. Ergänze auf den nächsten Zehner.

$67 + \underline{\quad} = \underline{\quad}$

$43 + \underline{\quad} = \underline{\quad}$

$89 + \underline{\quad} = \underline{\quad}$

$215 + \underline{\quad} = \underline{\quad}$

$496 + \underline{\quad} = \underline{\quad}$

$682 + \underline{\quad} = \underline{\quad}$



4. Ergänze auf den nächsten Hunderter.

$135 + \underline{\quad} = \underline{\quad}$

$244 + \underline{\quad} = \underline{\quad}$

$879 + \underline{\quad} = \underline{\quad}$

$376 + \underline{\quad} = \underline{\quad}$

$552 + \underline{\quad} = \underline{\quad}$

$733 + \underline{\quad} = \underline{\quad}$



5. Rechentabelle.




–	30	44	52	60	66
145					
673					

6. Überschlage. Bei welchen Aufgaben ist das Ergebnis kleiner als 200? Kreuze an.

$346 - 133$

$418 - 212$

$715 - 530$



Förderblatt

■ Testen und Fördern

Arbeiten mit Operationen

Addition und Subtraktion

3. Ergänze auf den nächsten Zehner.

$$67 + 3 = 70$$

$$43 + 7 = 50$$

$$89 + 1 = 90$$

$$215 + 5 = 220$$

$$496 + 4 = 500$$

$$682 + 8 = 690$$



4. Ergänze auf den nächsten Hunderter.

$$135 + 65 = 200$$

$$244 + 56 = 300$$

$$879 + 21 = 900$$

$$376 + 24 = 400$$

$$552 + 48 = 600$$

$$733 + 67 = 800$$




5. Rechentabelle.

-	30	44	52	60	66
145	115	101	93	85	79
673	643	629	621	613	607



6. Überschlage. Bei welchen Aufgaben ist das Ergebnis kleiner als 200? Kreuze an.

- $346 - 133$ $418 - 212$ $715 - 530$



2

© Österreichischer Bundesverlag Schulbuch GmbH & Co. KG, Wien 2016. Alle Rechte vorbehalten.
Testen und Fördern: MiniMax Mathematik 3

Förderblatt

■ Testen und Fördern

Arbeiten mit Operationen

Addition und Subtraktion

1. Rechne aus und kontrolliere mit Hilfe der Umkehraufgabe.

$$92 - 40 = 52$$

$$152 - 81 = 71$$

$$421 - 112 = 309$$

$$668 - 398 = 270$$

$$945 - 638 = 307$$

$$52 + 40 = 92$$

$$71 + 81 = 152$$

$$309 + 112 = 421$$

$$270 + 398 = 668$$

$$307 + 638 = 945$$



2. Wähle deinen Rechenweg selbst.

a) $155 + 75 = 230$ b) $360 - 132 = 228$

c) $453 + 123 = 576$

d) $502 - 190 = 312$

1

© Österreichischer Bundesverlag Schulbuch GmbH & Co. KG, Wien 2016. Alle Rechte vorbehalten.
Testen und Fördern: MiniMax Mathematik 3