


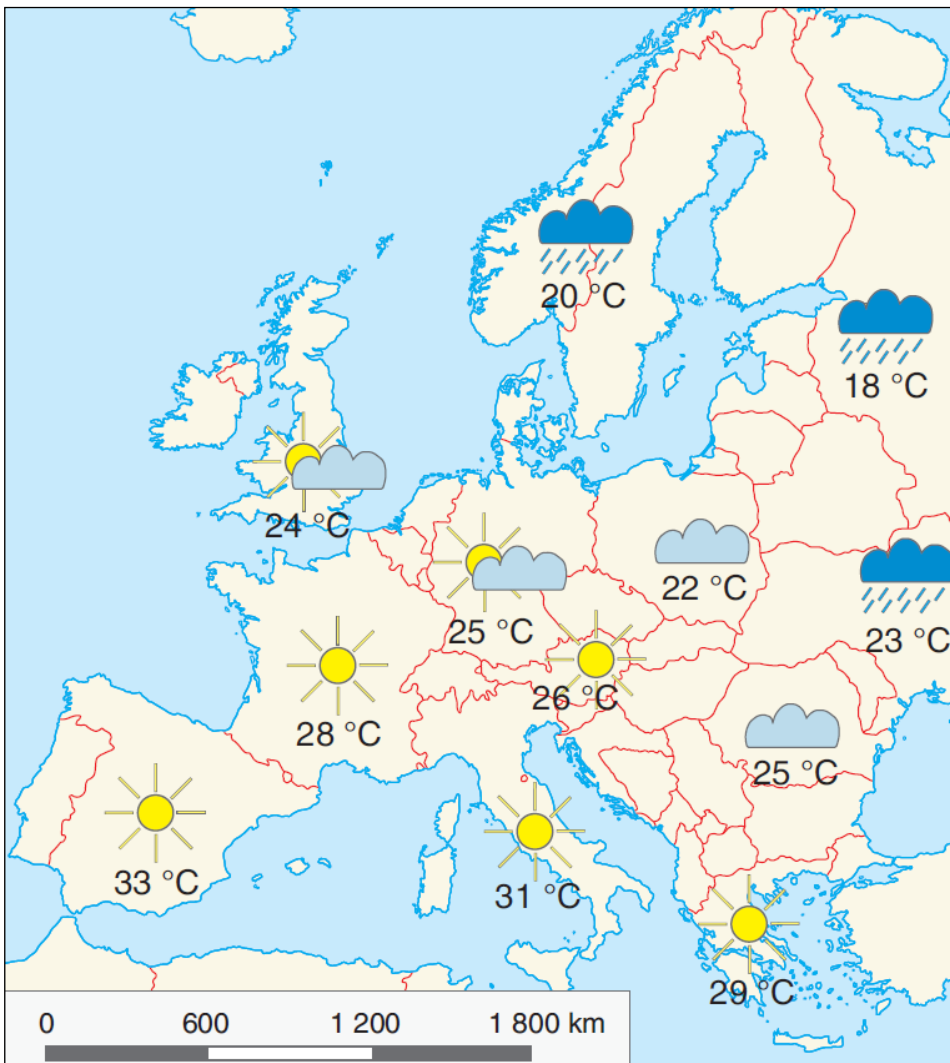


Basis: Wetter – beobachten, bewerten, vorhersagen

1. Ordne zu, was die Kartenzeichen bedeuten. Verbinde mit einem Strich.

wolkig/Wolken/Bewölkung	
sonnig/Sonne	
Temperatur	
Regen	28 °C

- 2. Arbeite mit der politischen Europakarte in deinem Atlas und der Wetterkarte.**
- Finde Österreich und kennzeichne es mit „Ö“.
 - Beschrifte mit dem Atlas die Staaten, in denen eine Temperatur von mehr als 27 °C vorausgesagt wird und die, in denen Regen angesagt ist.
 - Ergänze die Sätze im Kasten mit der Wetterkarte.



Im Norden und Nordosten Europas wird es _____ und die Temperaturen werden nicht über _____ steigen. Auf den Britischen Inseln und in Deutschland wird es sonnig bis _____ sein und die Temperaturen werden sich um _____ bewegen. Von Polen bis Rumänien ist mit _____ zu rechnen. Im Mittelmeerraum sind die Temperaturen über _____ und es ist _____.

