




**1** Wie viel? Rechne.

**1** Hat Max genug Geld? Rechne.



**1** Immer 8 €.



**2** Immer 20 c.



### Förderblatt

Rechnen mit Geld – Euro

■ Testen und Fördern

Arbeiten mit Größen



1 Hat Max genug Geld? Rechne.



$$5\text{€} + 1\text{€} + 1\text{€} = 7\text{€}$$

Nein.



$$2\text{€} + 1\text{€} + 1\text{€} = 4\text{€}$$

Ja.



$$4\text{€} + 1\text{€} + 1\text{€} = 6\text{€}$$

Nein.



$$1\text{€} + 2\text{€} + 2\text{€} = 5\text{€}$$


Ja.

### Förderblatt

Arbeiten mit Größen

■ Testen und Fördern

Rechnen mit Geld – Euro



1 Wie viel? Rechne.



$$3\text{€} + 2\text{€} + 1\text{€} = 6\text{€}$$



$$1\text{€} + 1\text{€} + 2\text{€} + 2\text{€} + 3\text{€} = 9\text{€}$$



$$3\text{€} + 1\text{€} + 1\text{€} + 2\text{€} = 8\text{€}$$



$$2\text{€} + 3\text{€} + 1\text{€} + 1\text{€} = 7\text{€}$$

### Förderblatt



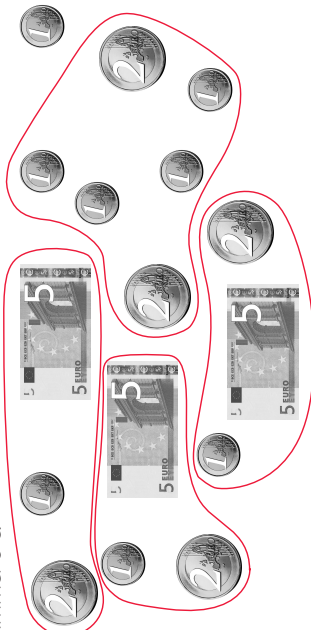
■ Testen und Fördern

Rechnen mit Geld – Euro, Cent

Arbeiten mit Größen


**1** Immer 8 €.

z. B.



**2** Immer 20 c.

z. B.



© Österreichischer Bundesverlag Schulbuch GmbH & Co. KG, Wien 2014. Alle Rechte vorbehalten.  
Testen und Fördern: MiniMax 1