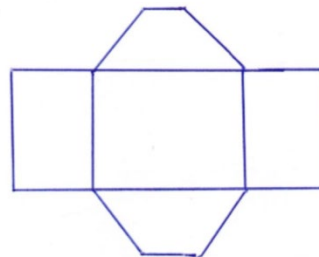
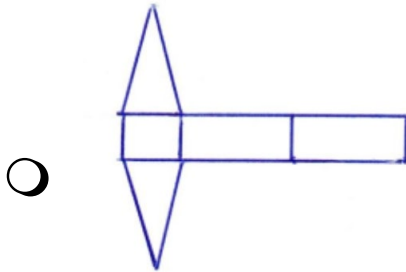
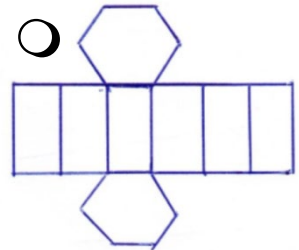
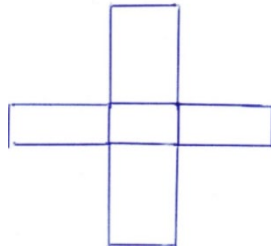
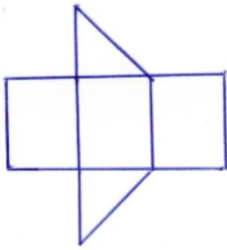


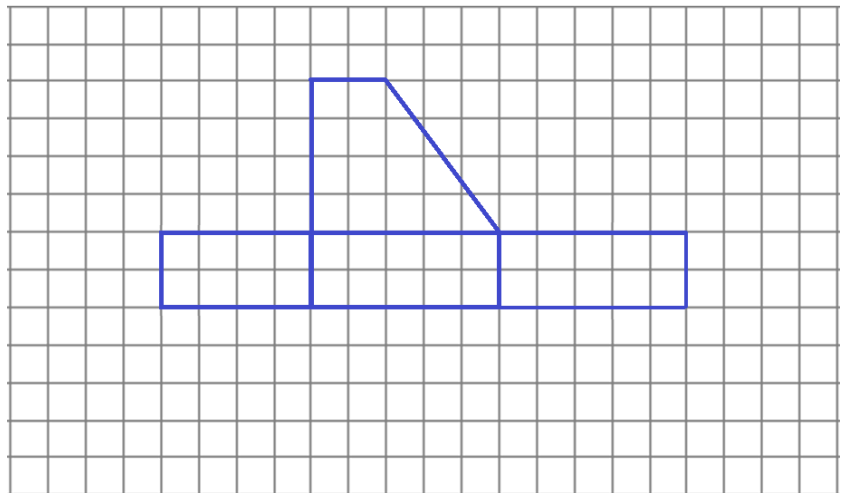
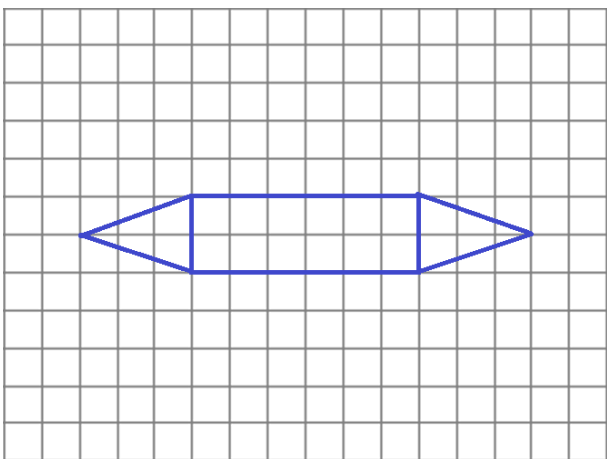
Thema: Netz und Oberfläche des Prismas	Handlungskompetenz: H123
Name:	Klasse:



1. Nicht alle Darstellungen sind wirklich Netze von Prismen.  
Kreuze jene Netze an, bei denen du ein Prisma falten kannst.



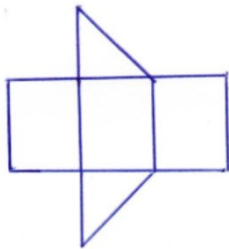
2. Ergänze das Netz des Prismas.



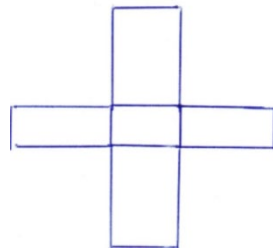
Thema: Netz und Oberfläche des Prismas - Lösung	Handlungskompetenz: H123
Name:	Klasse:



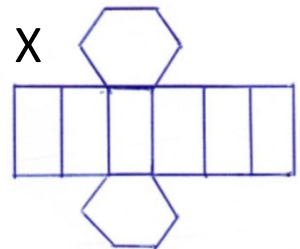
1. Nicht alle Darstellungen sind wirklich Netze von Prismen.  
Kreuze jene Netze an, bei denen du ein Prisma falten kannst.



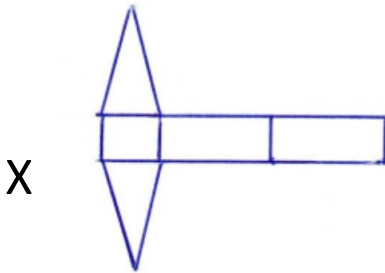
X



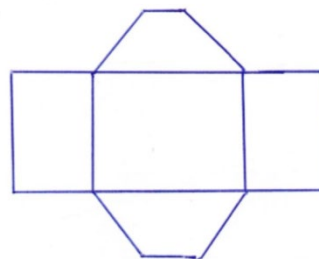
○



X



X



○



2. Ergänze das Netz des Prismas.

