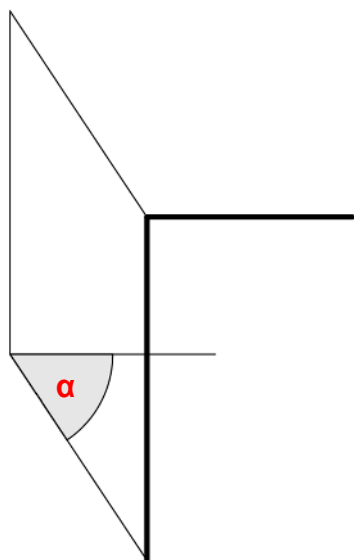
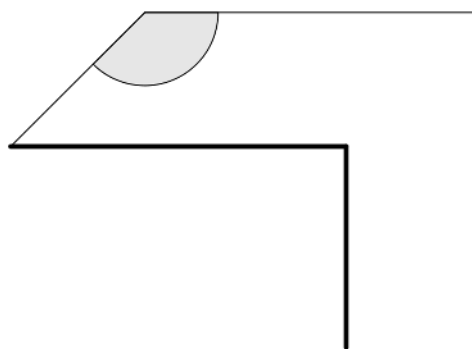


1. Ergänze die Schrägrisse von Quadern. (Die breit gezeichneten Linien gehören zur Vorderseite.) Zeichne die sichtbaren Kanten mit breiten Linien, die verdeckten Kanten dünn oder strichliert. Miss am Schluss jeweils den Verzerrungswinkel  $\alpha$ . Überlege und gib an, ob man den Quader von links oder von rechts oben sieht.

a)

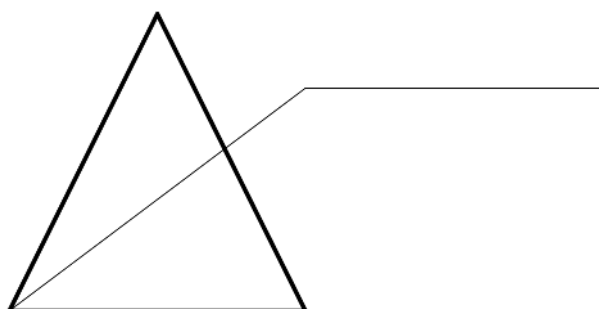


b)



2. Zwei Objekte haben die Form eines Prismas. Ergänze die fehlenden Kantenbilder. Zeichne die sichtbaren Kanten mit breiten Linien, die verdeckten Kanten strichliert.

b) Zelt: liegendes dreiseitiges Prisma



a) Haus: liegendes sechsseitiges Prisma

