

Thema: Prozentkreis und Prozentstreifen	Handlungskompetenz: DI, V
Name:	Klasse:

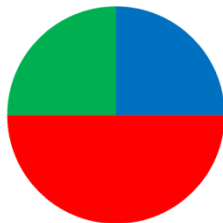
1. Welche Aussage passt zum Prozentstreifen?



50% des Prozentstreifens sind blau.	<input type="checkbox"/>	25% des Prozentstreifens sind grün.	<input type="checkbox"/>
50% des Prozentstreifens sind rot.	<input type="checkbox"/>	50% des Prozentstreifens sind rot.	<input type="checkbox"/>
Ein Viertel ist rot.	<input type="checkbox"/>	Ein Drittel ist blau.	<input type="checkbox"/>
Die Hälfte ist grün.	<input type="checkbox"/>	25% des Prozentstreifens sind rot.	<input type="checkbox"/>

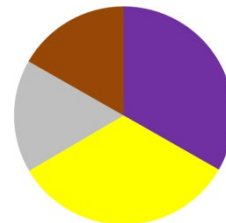
2. Welche Aussage passt zum Prozentkreis?

a)



50% vom Prozentkreis sind blau.	<input type="checkbox"/>
25% vom Prozentkreis sind grün.	<input type="checkbox"/>
Ein Viertel ist rot.	<input type="checkbox"/>
Ein Viertel ist grün.	<input type="checkbox"/>
50% vom Prozentkreis sind rot.	<input type="checkbox"/>

b)



33,3% vom Prozentkreis sind violett.	<input type="checkbox"/>
50% vom Prozentkreis sind gelb.	<input type="checkbox"/>
16,6% vom Prozentkreis sind grau.	<input type="checkbox"/>
Ein Sechstel vom Prozentkreis ist braun.	<input type="checkbox"/>
Ein Drittel vom Prozentkreis ist violett.	<input type="checkbox"/>

3. Welche dieser Darstellungen passt zu diesem Zusammenhang?

Lieblingsfarbe der Schulkinder: 32% grün; 28% rot; 21% gelb; 10% blau; 9% lila

	<input type="checkbox"/>		<input type="checkbox"/>		<input type="checkbox"/>
--	--------------------------	--	--------------------------	--	--------------------------

Thema: <b>Prozentkreis und Prozentstreifen - Lösung</b>	Handlungskompetenz: DI, V
Name:	Klasse:

1. Welche Aussage passt zum Prozentstreifen?



50% des Prozentstreifens sind blau.	<input checked="" type="checkbox"/>	25% des Prozentstreifens sind grün.	<input checked="" type="checkbox"/>
50% des Prozentstreifens sind rot.	<input type="checkbox"/>	50% des Prozentstreifens sind rot.	<input type="checkbox"/>
Ein Viertel ist rot.	<input checked="" type="checkbox"/>	Ein Drittel ist blau.	<input type="checkbox"/>
Die Hälfte ist grün.	<input type="checkbox"/>	25% des Prozentstreifens sind rot.	<input checked="" type="checkbox"/>

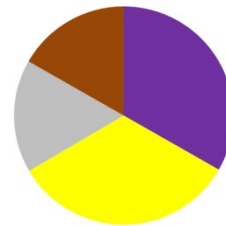
2. Welche Aussage passt zum Prozentkreis?

a)



50% vom Prozentkreis sind blau.	<input type="checkbox"/>
25% vom Prozentkreis sind grün.	<input checked="" type="checkbox"/>
Ein Viertel ist rot.	<input type="checkbox"/>
Ein Viertel ist grün.	<input checked="" type="checkbox"/>
50% vom Prozentkreis sind rot.	<input checked="" type="checkbox"/>

b)



33,3% vom Prozentkreis sind violett.	<input checked="" type="checkbox"/>
50% vom Prozentkreis sind gelb.	<input type="checkbox"/>
16,6% vom Prozentkreis sind grau.	<input checked="" type="checkbox"/>
Ein Sechstel vom Prozentkreis ist braun.	<input checked="" type="checkbox"/>
Ein Drittel vom Prozentkreis ist violett.	<input checked="" type="checkbox"/>

3. Welche dieser Darstellungen passt zu diesem Zusammenhang?

Lieblingsfarbe der Schulkinder: 32% grün; 28% rot; 21% gelb; 10% blau; 9% lila

	<input checked="" type="checkbox"/>
	<input type="checkbox"/>
	<input checked="" type="checkbox"/>