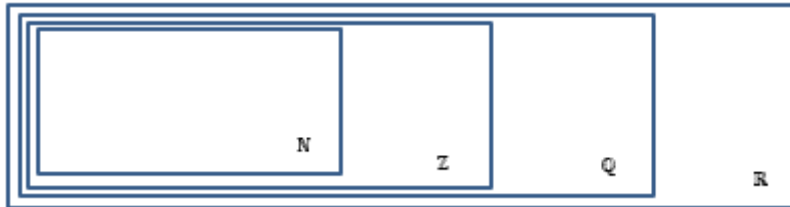


Thema: Zahlenmengen		Grundkompetenz: AG-R 1.1
Name:	Schwierigkeitsgrad: leicht	Klasse:

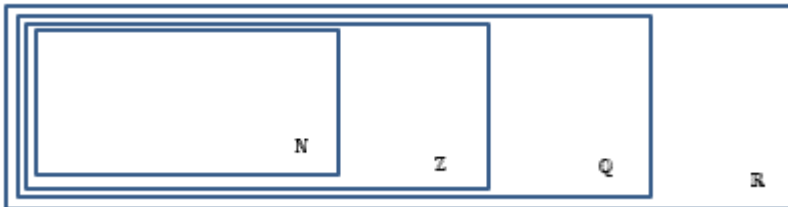
Schreibe die gegebenen reellen Zahlen in den passenden Bereich.

a)



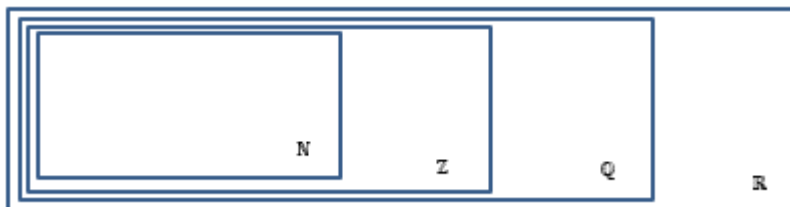
10 5,6 $\sqrt{2}$ $\frac{6}{3}$ π 0 $5,5^2$ -13 $\sqrt{81}$

b)



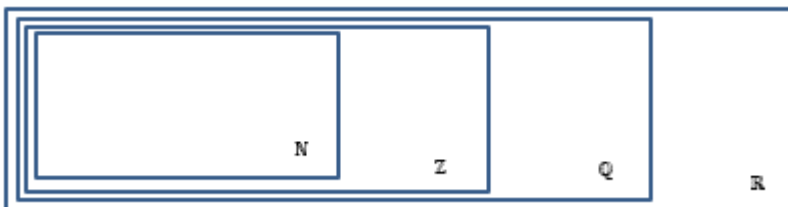
-23,5 9 1^3 $\frac{2}{7}$ $\frac{7}{2}$ 88 -32 4^2 5,6667

c)



$\sqrt[3]{\pi}$ -0,004 13 $\frac{3}{18}$ -17,8 $9,87$ $\sqrt{4}$ 2,2 $\sqrt{50}$

d)



5 12,1212 3^3 -9 $\sqrt{\pi}$ $\sqrt{9}$ -6,2 1^0 $\frac{4}{19}$



Thema: Lineare Gleichungen und Gleichungssysteme Lösungen		Grundkompetenz: AG-R 1.1
Name:	Schwierigkeitsgrad: mittel	Klasse:

Schreibe die gegebenen reellen Zahlen in den passenden Bereich.

a)

$10\sqrt{81}$ $\frac{6}{3}$ 0	-13	$5,6$ $5,5^2$	π $\sqrt{2}$
N	Z	Q	R

b)

9 1^3 88 4^2	-32	$-23,5$ $\frac{27}{72}$ $5,6667$	
N	Z	Q	R

c)

13 $\sqrt{4}$		$-0,004$ $2,2$ $\frac{3}{18}$ $9,87$ $-17,8$	$\sqrt[3]{\pi}$ $\sqrt{50}$
N	Z	Q	R

d)

5 3^3 1^0 $\sqrt{9}$	-9	$12,1212$ $-6,2$ $\frac{4}{19}$	$\sqrt{\pi}$
N	Z	Q	R

