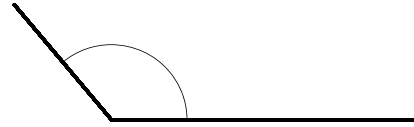
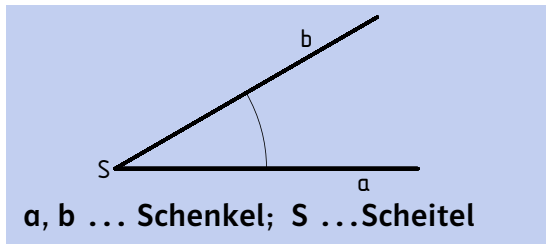


1 Beschrifte den Winkel.

Der Winkel ist ein Maß für eine Drehung.





2 Kennzeichne Scheitel und Schenkel färbig.

a) Stehleiter

b) Uhr

c) Filmklappe

d) Schere



3. Zeichne die Winkel $\alpha = 225^\circ$ und $\beta = 300^\circ$ ein. Markiere sie mit einem Bogen und beschrifte sie.

