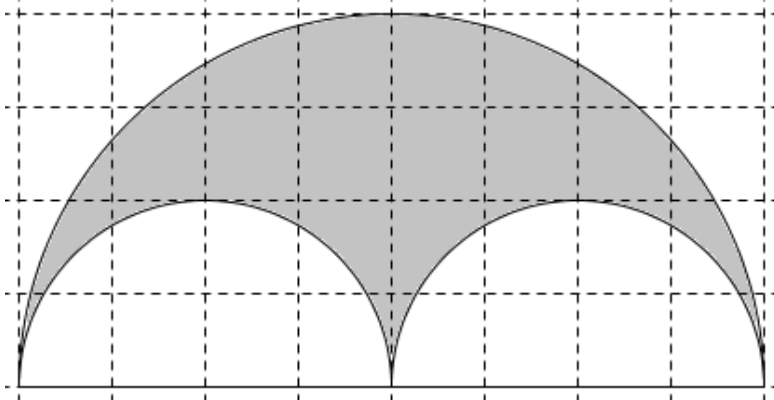
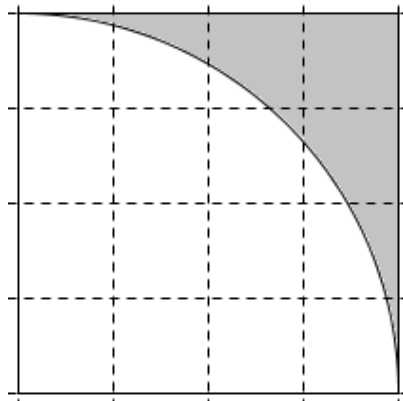


1. Berechne Flächeninhalt und Umfang der dargestellten Figur!  
1 Kästchen = 1cm

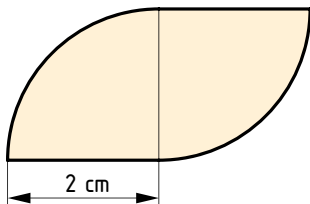


2. Berechne Umfang und Flächeninhalt der dargestellten Figur!  
(1 Kästchen = 1cm)



3. Zeichne die Figur und berechne den Flächeninhalt.

a)



b)

