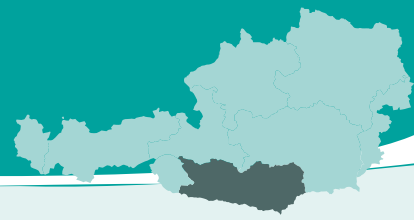


# Arbeitsblatt Kärnten



**1** Beschrifte die Karte mit dem Atlas. Beachte:  $\beta = SS$

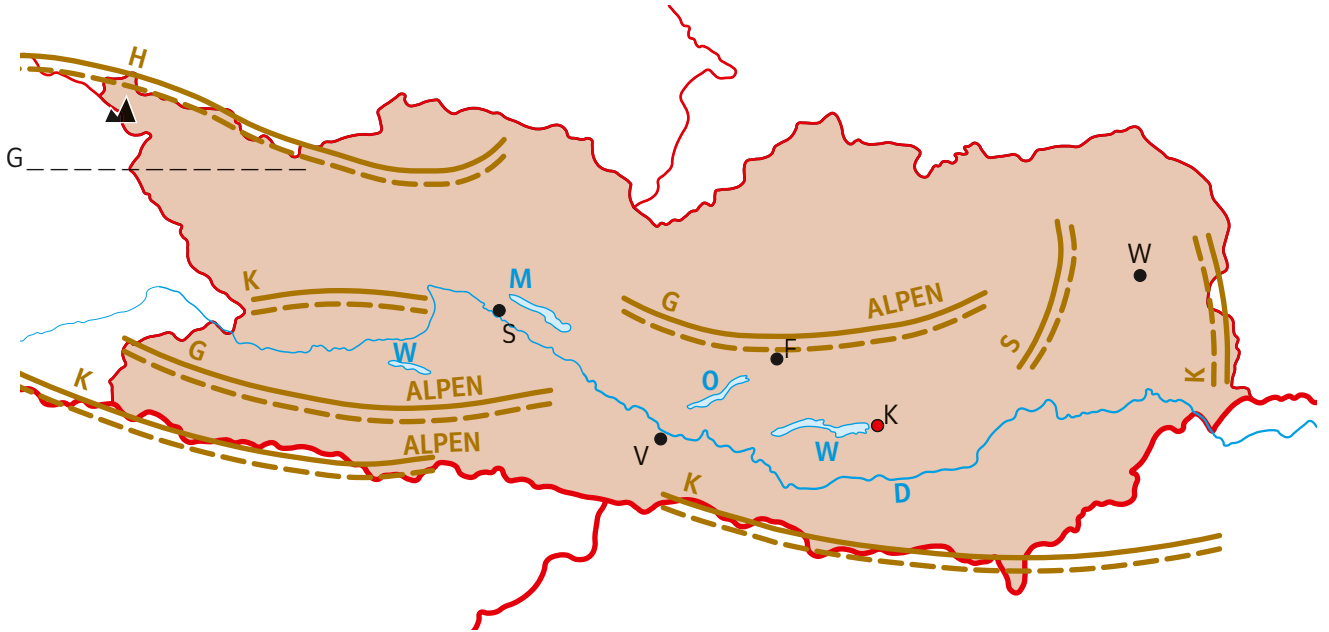
Landeshauptstadt:

.....

- Staatsgrenze
- - - Bundeslandsgrenze
- Landeshauptstadt
- größte Städte
- ~ Fluss
- See
- ▲ höchster Berg
- - - Gebirge und Landschaften


Maßstab 1: 1 200 000

0 12 24 36 km



Übungskarte Kärnten

**2** Bemale das Wappen in den Originalfarben.



**3** Löse das Rätsel. Arbeite mit dem Atlas. Gib die Seite und das jeweilige Suchfeld an.

größter See: Atlas S. \_\_\_\_ / \_\_\_\_

\_\_\_\_\_ 5 \_\_\_\_\_

höchster Berg: Atlas S. \_\_\_\_ / \_\_\_\_

\_\_\_\_\_ 7 6 \_\_\_\_\_

längster Fluss: Atlas S. \_\_\_\_ / \_\_\_\_

Stadt über 20 000 Einwohnerinnen und Atlas S. \_\_\_\_ / \_\_\_\_

Einwohner:  $\checkmark$  \_\_\_\_\_ 8 3 4

Lösung: 1 2 3 4 5 6 7 8 !

$\beta = SS$

**4** Erstelle eine Tabelle mit drei Spalten. Die Überschriften sind: Land- und Forstwirtschaft, Gewerbe und Industrie sowie Dienstleistungen.

