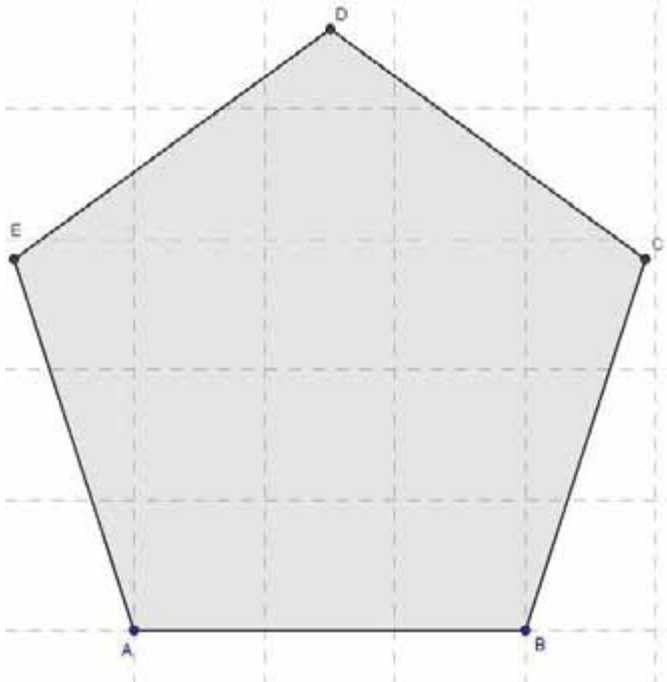


- 1 Zeichne die Streckensymmetralen zu jeder Seite des regelmäßigen Fünfecks ein. Was fällt dir auf?



Beobachtung:

.....

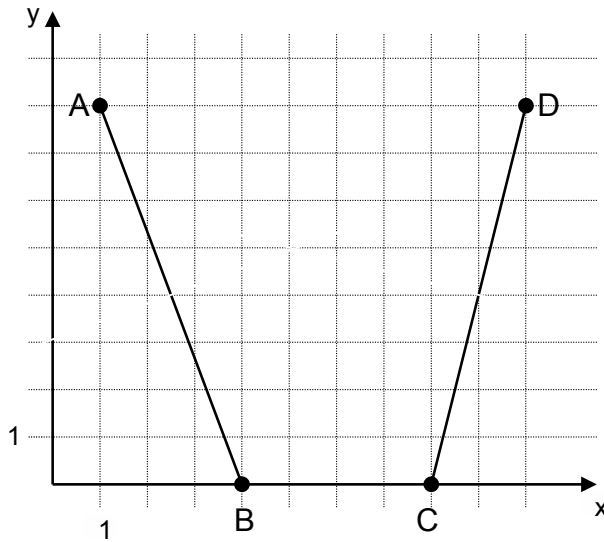
.....

.....

.....

.....

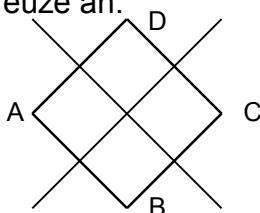
- 2 Zeichne zu den gegebenen Strecken AB und CD die Streckensymmetrale ein. Welche Koordinaten hat der Schnittpunkt der beiden Streckensymmetralen.



Koordinaten des Schnittpunkts

( ... | ... )

- 3 Sind alle Seitensymmetralen (=Streckensymmetralen der Seiten) richtig eingezeichnet? Kreuze an.



	JA	
	NEIN	

