


- 1 Überlege, mit welcher Strategie du die Aufgabe lösen kannst, und löse sie mithilfe des Rechenstrichs.

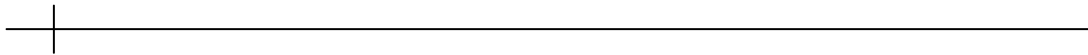
$$198 + 56 = \dots\dots\dots$$

Strategie:




$$12 + 179 = \dots\dots\dots$$

Strategie:



$$104 + 52 = \dots\dots\dots$$


Strategie:



- 2 Überlege, mit welcher Strategie du die Aufgabe lösen kannst, und löse sie mithilfe des Rechenstrichs.


$$98 - 56 = \dots\dots\dots$$

Strategie:



$$189 - 152 = \dots\dots\dots$$

Strategie:



$$114 - 47 = \dots\dots\dots$$

Strategie:

