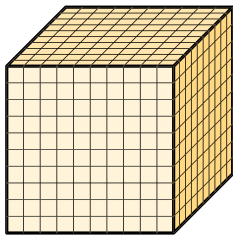
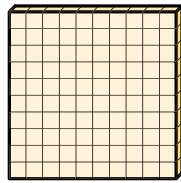


Tausender



1 T

Hunderter



10 H

Zehner



100 Z

Einer

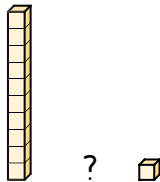


1 000 E

1 T = 10 H = 100 Z = 1 000 E

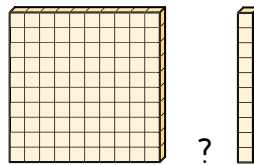
1 Überlege.

a) Wie viele **Einer** ergeben einen **Zehner**?



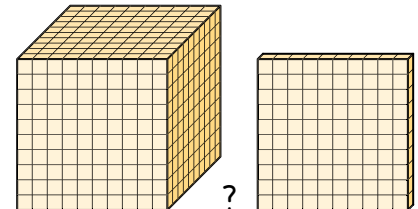
1 Z = E

b) Wie viele **Zehner** ergeben einen **Hunderter**?



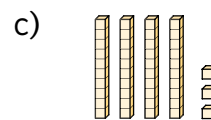
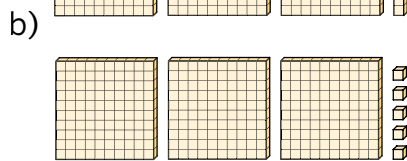
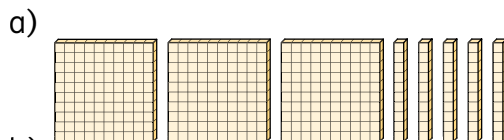
1 H = Z

c) Wie viele **Hunderter** ergeben einen **Tausender**?



1 T = H

2 Welche Zahl ist dargestellt?



3 Schreibe die Zahl.

400 + 20 + 5 = 425

a) 100 + 70 + 1 = b) 500 + 4 =

4 Schreibe die gegebene Zahl an.

6 H 3 E = 603

a) 3 H 5 Z 2 E = b) 1 H 5 Z =
 c) 7 H 5 Z 4 E = d) 4 T 2 H 1 E = e) 4 T 1 E =

