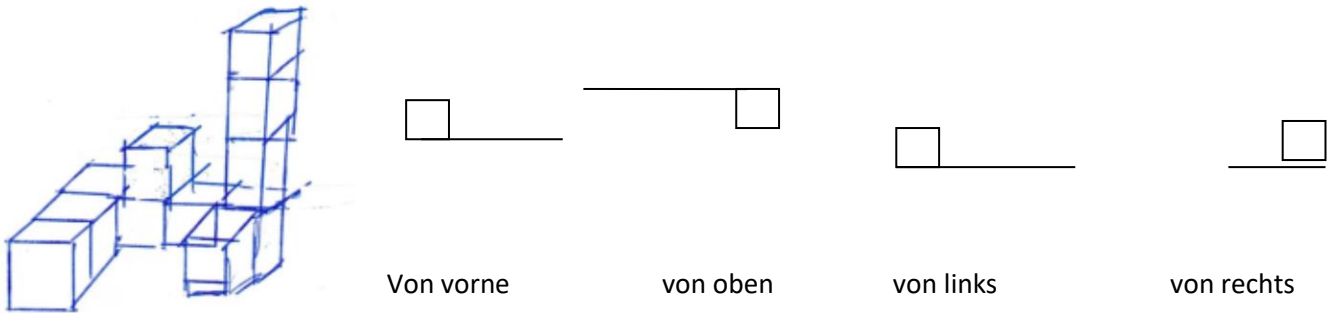
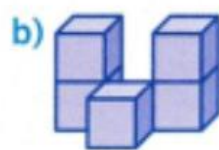
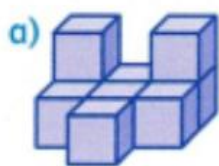
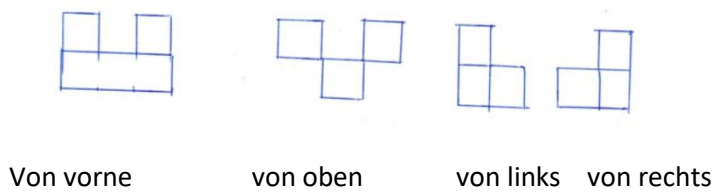


Thema: Rechnen mit Dezimalzahlen - Themenseite	Handlungskompetenz: H2
Name:	Klasse:

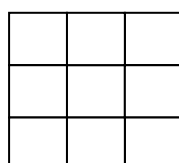

1. In der Mehrfachabbildung wird ein Körper von vier Seiten gezeichnet.
 Betrachte die Mehrfachabbildung und ergänze an der richtigen Stelle die Würfel.



2. Welche Körpergruppe passt zur gezeichneten Mehrfachabbildung?



3. Körpergruppen können auch durch einen Bauplan dargestellt werden.
 Trage in das Raster ein, wie viele Würfel an entsprechender Stelle erkennbar sind.

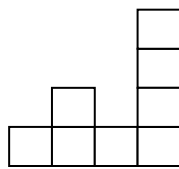
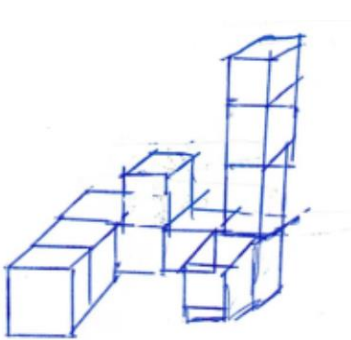


Thema: Rechnen mit Dezimalzahlen - Themenseite - LÖSUNGEN	Handlungskompetenz: H2
Name:	Klasse:

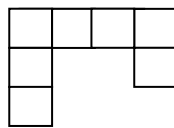


1. In der Mehrfachabbildung wird ein Körper von vier Seiten gezeichnet.

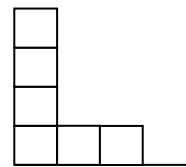
Betrachte die Mehrfachabbildung und ergänze an der richtigen Stelle.



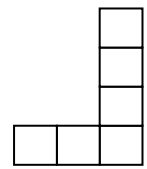
Von vorne



von oben




von links




von rechts



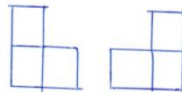
2. Welche Körpergruppe passt zur gezeichneten Mehrfachabbildung?



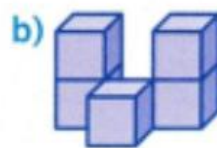

Von vorne



von oben



von links von rechts




X



3. Körpergruppen können auch durch einen Bauplan dargestellt werden.

Trage in das Raster ein, wie viele Würfel an entsprechender Stelle erkennbar sind.



3	2	1
1	2	1
0	0	1