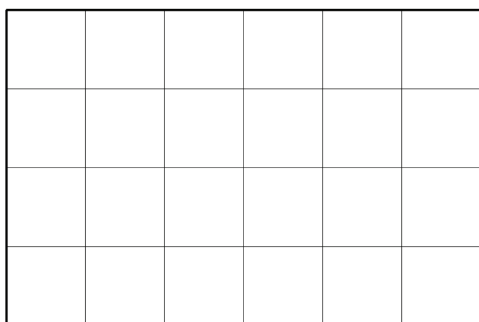


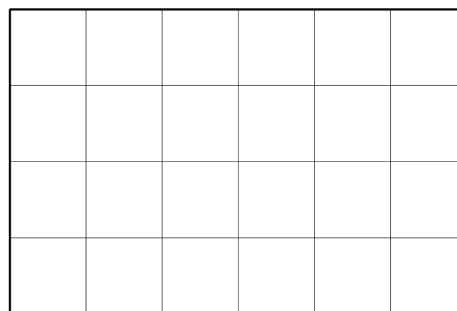
Geometrische geformte Grundstücke sollen in gleiche Teile geteilt werden.
Teile jeweils genau entlang der Gitterlinien. Färbe die Teile.

1. Teile das rechteckige Grundstück in acht gleiche Teile.

a) Die acht Teile sollen Rechtecke sein.




b) Die acht Teile sollen keine Rechtecke sein.




2. Teile das Grundstück in a) fünf, b) vier gleiche Teile.

a)

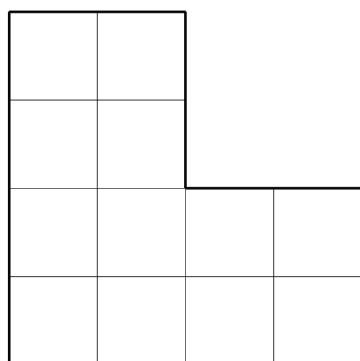


b)



3. Teile das Grundstück in a) drei, b) vier gleiche Teile.

a)



b)

