


Foto: Karin Vilsecker



Auf dem nebenstehenden Bild ist ein Spielwürfel zu sehen. Oben siehst du 6 Punkte, vorne 4 Punkte und rechts 5 Punkte. Daraus bauen wir nun folgende Zahl: **645**

Die Punkteanzahl oben liefert die **Hunderterstelle**, die Punkteanzahl vorne die **Zehnerstelle** und die Punkteanzahl rechts die **Einerstelle**.

Würfle nun mit einem Würfel drei Mal. Betrachte den Würfel jeweils von der rechten Seite, von vorne und von oben. Schreib die Anzahl der Punkte in die Würfel darunter. Schreib dann die entsprechenden Zahlen auf und addiere sie.

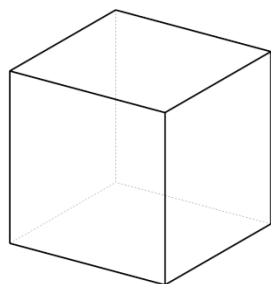


Zahl: 645

+

+

=

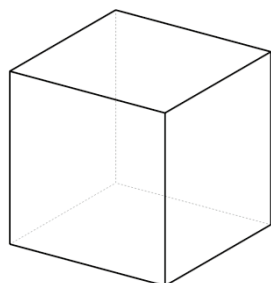


Zahl: _____

+

+

=



Zahl: _____

+

+

=

